


# Βρίσκω τα κλάσματα!

✚ Γράφω με κλάσμα τα καρότα που μάζεψε ο λαγός.




✚ Βρίσκω το κλάσμα και έπειτα το περιγράφω με λόγια όπως το παράδειγμα.

$$\frac{1}{4}$$




Από τα 4 μέρη έβαψα το 1

$$\frac{\quad}{\quad}$$




---

$$\frac{\quad}{\quad}$$




---

$$\frac{\quad}{\quad}$$




---








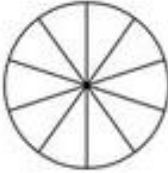
$$\frac{\quad}{\quad}$$




---

# Βρίσκω τα κλάσματα!

✚ Συμπληρώνω τον πίνακα.

Δύο τρίτα		
Κυκλώνω	Χρωματίζω	Γράφω το κλάσμα
		_____
Τέσσερα όγδοα		
Κυκλώνω	Χρωματίζω	Γράφω το κλάσμα
		_____
Τρία πέμπτα		
Κυκλώνω	Χρωματίζω	Γράφω το κλάσμα
		_____
Εφτά δέκατα		
Κυκλώνω	Χρωματίζω	Γράφω το κλάσμα
		_____