






Ζωγράφισε το κλάσμα!!



Ζωγράφισε τις 3 από τις 6 γραμμούλες και γράψε ποιο κλάσμα δημιουργήθηκε!!



Ζωγράφισε τις 4 από τις 6 γραμμούλες και γράψε ποιο κλάσμα δημιουργήθηκε!




Ζωγράφισε τις 2 από τις 3 γραμμούλες και γράψε ποιο κλάσμα δημιουργήθηκε!







Ζωγράφισε το κλάσμα!!



Ζωγράφισε τη 1 από τις 3 γραμμούλες και γράψε ποιο κλάσμα δημιουργήθηκε!



Ζωγράφισε τις 5 από τις 6 γραμμούλες και γράψε ποιο κλάσμα δημιουργήθηκε!



Ζωγράφισε τις 2 από τις 6 γραμμούλες και γράψε ποιο κλάσμα δημιουργήθηκε!

