



Όνομα:


 Η φρουτιέρα έχει 2 πορτοκάλια, 6 μήλακι 1 αχλάδι.

Πόσα φρούτα έχει η φρουτιέρα;

Λύνω: =



Απαντώ: Η φρουτιέρα έχει φρούτα.


 Είχα 9 σοκολάτες, έφαγα τις 2.

Πόσες σοκολάτες μου έμειναν;



Λύνω: =

Απαντώ: Μου έμειναν σοκολάτες.


 Είχα 7 μπιγιές. Έδωσα τις 2 στην αδερφή μου.

Πόσες μπιγιές μου έμειναν;

Λύνω: =



Απαντώ: Μου έμειναν μπιγιές.



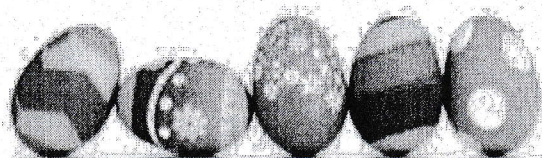

Γράφω τον προηγούμενο αριθμό.

<u>29</u>	30	___	50	___	20	___	10	___	40
___	27	___	42	___	36	___	17	___	24
___	39	___	26	___	11	___	28	___	47



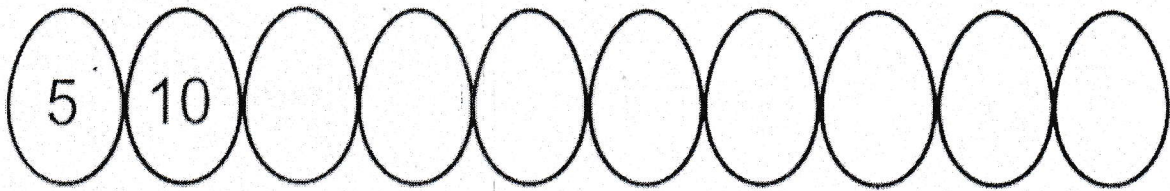
Υπολογίζω τις αφαιρέσεις.

$10 - 2 = 8$	$10 - 3 =$	$10 - 6 =$
$10 - 5 =$	$10 - 0 =$	$10 - 9 =$
$10 - 8 =$	$10 - 4 =$	$10 - 7 =$





Ανεβαίνω 5 - 5 ως το 50.



Γράφω στο κουτάκι το μισό κάθε αριθμού.

$8 \rightarrow \boxed{4}$

$10 \rightarrow \boxed{}$

$2 \rightarrow \boxed{}$

$6 \rightarrow \boxed{}$

$4 \rightarrow \boxed{}$



Γράφω το όνομα κάθε αριθμού.

19 δεκαεννιά 36 _____

45 _____ 24 _____

32 _____ 12 _____

27 _____ 48 _____



Βρίσκω ΠΟΣΟ κάνει κάθε πράξη.

$(40) + (10) = 50$

$(50) - (30) = 20$

$30 + 20 =$

$40 - 20 =$

$10 + 20 =$

$30 - 10 =$

$20 + 20 =$

$20 - 10 =$

$30 + 10 =$

$50 - 20 =$

$20 + 10 =$

$40 - 10 =$

