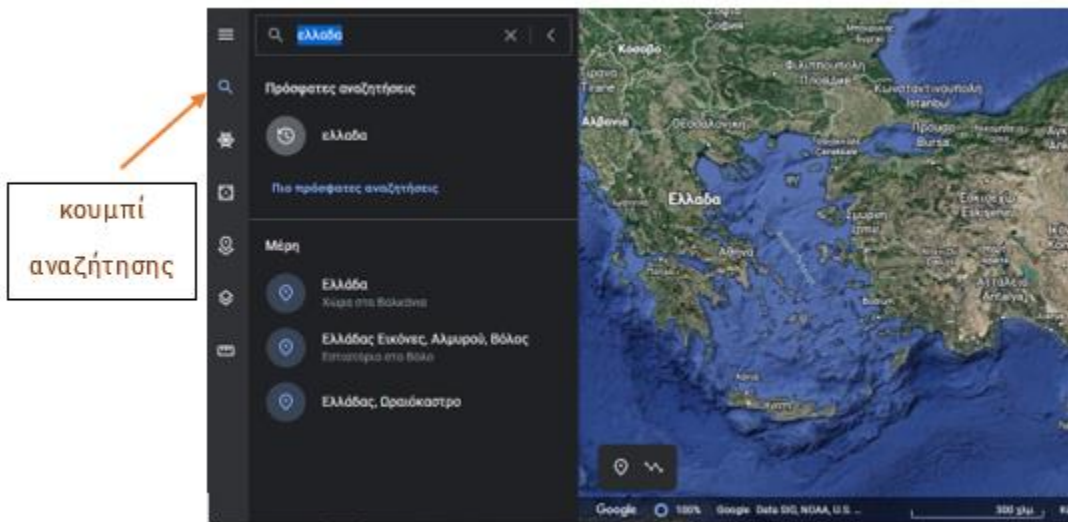


Φύλλο Εργασίας 2

Google Earth

Οδηγίες προς τους μαθητές:

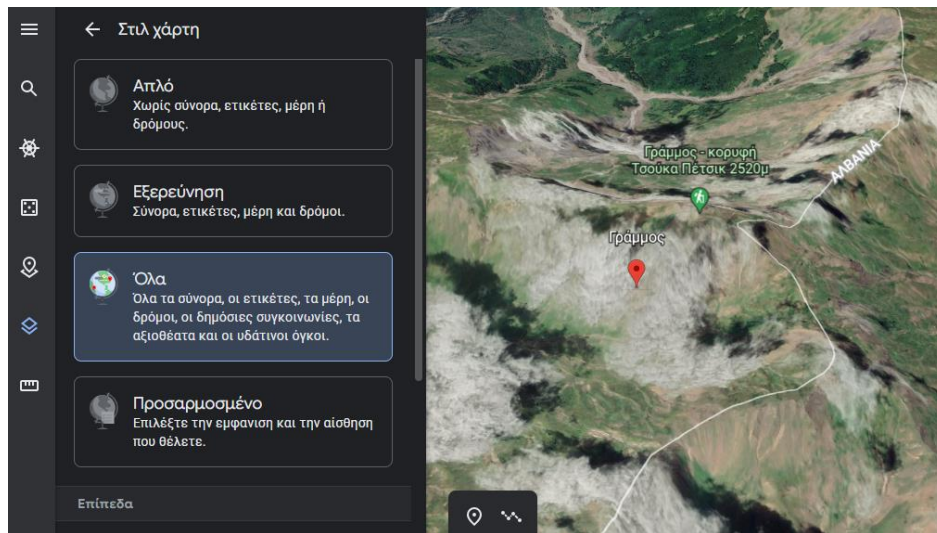
- ✓ Ανοίξτε την εφαρμογή [Google Earth](#).
- ✓ Στο σημάδι της αναζήτησης πληκτρολογήστε τη λέξη "Ελλάδα".(εικόνα 1)



εικ. 1

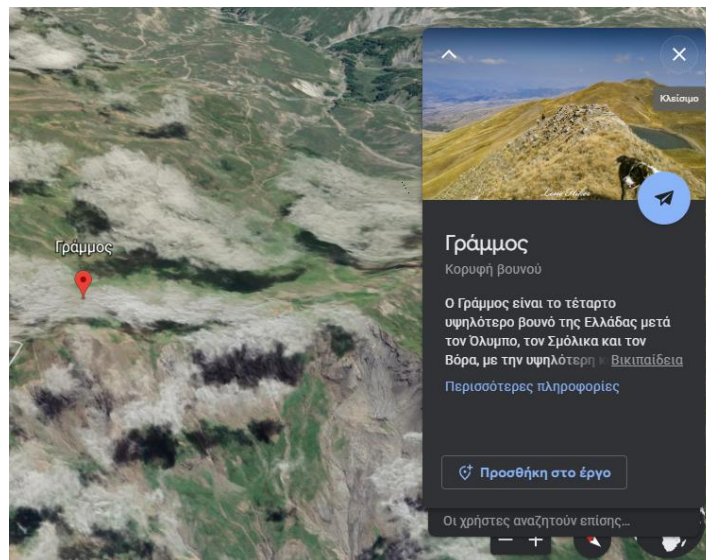
- ✓ Κάθε ομάδα θα αναζητήσει ένα από τα παρακάτω φυσικά σύνορα της χώρας μας με τα γειτονικά κράτη:
 - ✚ Όρη Γράμμος και Βόρας
 - ✚ Λίμνες Πρέσπες
 - ✚ Οροσειρά Ροδόπης
 - ✚ Ποταμός Έβρος

- ✓ Αριστερά στην μπάρα των εργαλείων ενεργοποιήστε την εμφάνιση των συνόρων.(εικόνα 2)



εικ. 2

- ✓ Μελετήστε τις πληροφορίες που εμφανίζονται για το στοιχείο της αναζήτησης.(εικόνα 3)



εικ. 3

- ✓ Παρουσιάστε τα αποτελέσματα της αναζήτησης στην ολομέλεια της τάξης.

Κάθε ομάδα θα απαντήσει ένα από τα παρακάτω ερωτήματα:

1η Ομάδα: Ποιο είναι το φυσικό σύνορο μεταξύ Ελλάδας-Τουρκίας; Να καταγράψετε σύντομα τις σχετικές πληροφορίες.

.....
.....
.....

2η Ομάδα: Η οροσειρά της Ροδόπης με ποια χώρα χωρίζει την Ελλάδα; Να καταγράψετε σύντομα τις σχετικές πληροφορίες.

.....
.....
.....

3η Ομάδα: Σε ποια κράτη ανήκουν οι λίμνες Πρέσπες; Να καταγράψετε σύντομα τις σχετικές πληροφορίες.

.....
.....
.....

4η Ομάδα: Η Αλβανία με ποιο όρος διαχωρίζεται από την Ελλάδα; Να καταγράψετε σύντομα τις σχετικές πληροφορίες.

.....
.....
.....

5η Ομάδα: Το όρος Βόρας βρίσκεται μεταξύ Ελλάδας και ποιας συνοριακής χώρας; Να καταγράψετε σύντομα τις σχετικές πληροφορίες.

.....
.....
.....