

Φύλλο Εργασίας 4

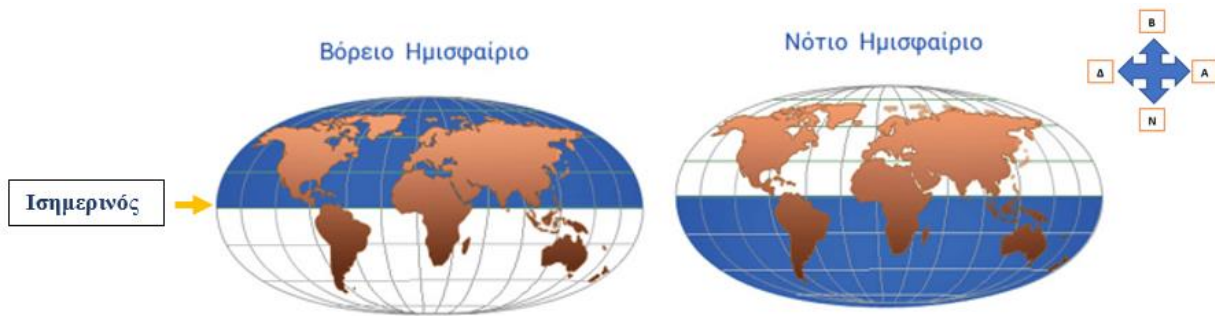
Η θέση της Ελλάδας στον κόσμο

Ο Ανδρέας διαβάζει το γράμμα που του έστειλε ο φίλος του ο Μάριος από την Κύπρο. Στο γράμμα του ο Μάριος του έχει στείλει μια εικόνα με την υδρόγειο σφαίρα που είχε σημειώσει τη γεωγραφική θέση της Κύπρου. Ο Αντρέας βλέποντας την εικόνα αναρωτήθηκε :

«Πού βρίσκεται η Ελλάδα στην υδρόγειο σφαίρα;»

Ελάτε να βοηθήσουμε τον Αντρέα να βρει τη θέση της Ελλάδας στην υδρόγειο σφαίρα:

1. Παρατηρούμε στην υδρόγειο σφαίρα ότι η οριζόντια κυκλική γραμμή του Ισημερινού χωρίζει τη Γη σε δυο μέρη.



<https://podilato98.blogspot.com/2011/10/gi-ouranio-soma-04.html>

Με βάση τις παρατηρήσεις μας συμπληρώνουμε το παρακάτω κείμενο με τις έννοιες που ταιριάζουν:

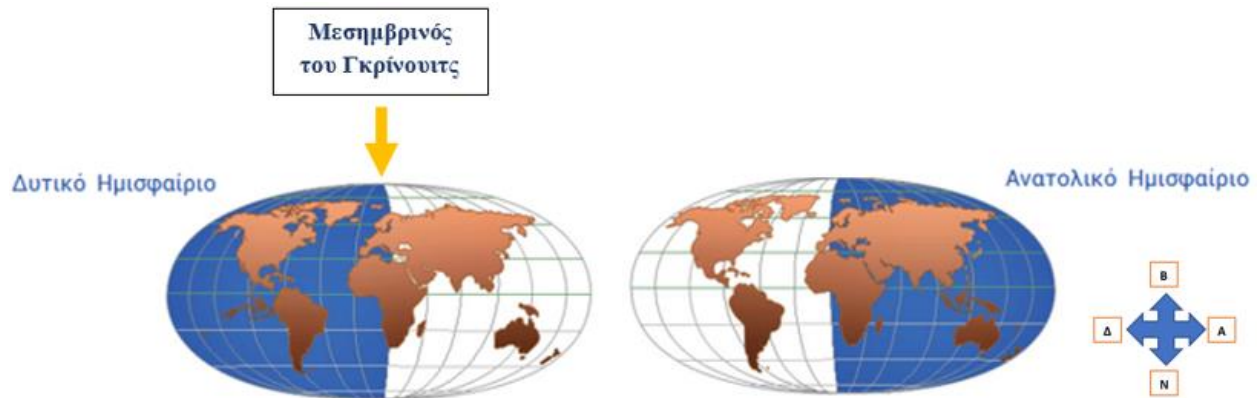
α) Ο Ισημερινός φαίνεται να χωρίζει τη Γη σε δυο που λέγονται ημισφαίρια. Το ημισφαίριο και το ημισφαίριο.

β) Το ημισφαίριο βρίσκεται βόρεια από τη γραμμή του Ισημερινού και το ημισφαίριο βρίσκεται νότια από τη γραμμή του Ισημερινού.

γ) Η Ελλάδα βρίσκεται του Ισημερινού.

Η Ελλάδα βρίσκεται στο ημισφαίριο.

2. Παρατηρούμε τις δύο περιοχές της Γης που φαίνεται να δημιουργεί η κυκλική γραμμή του μεσημβρινού του Γκρίνουιτς:



<https://podilato98.blogspot.com/2011/10/gi-ouranio-soma-04.html>

Με βάση τις παρατηρήσεις μας συμπληρώνουμε το παρακάτω κείμενο με τις έννοιες που ταιριάζουν:

α) Ο μεσημβρινός του Γκρίνουιτς φαίνεται να χωρίζει τη Γη σε ημισφαίριο και σε ημισφαίριο.

β) Το ημισφαίριο βρίσκεται δυτικά από τον μεσημβρινό του Γκρίνουιτς και το ημισφαίριο βρίσκεται ανατολικά από τον μεσημβρινό του Γκρίνουιτς.

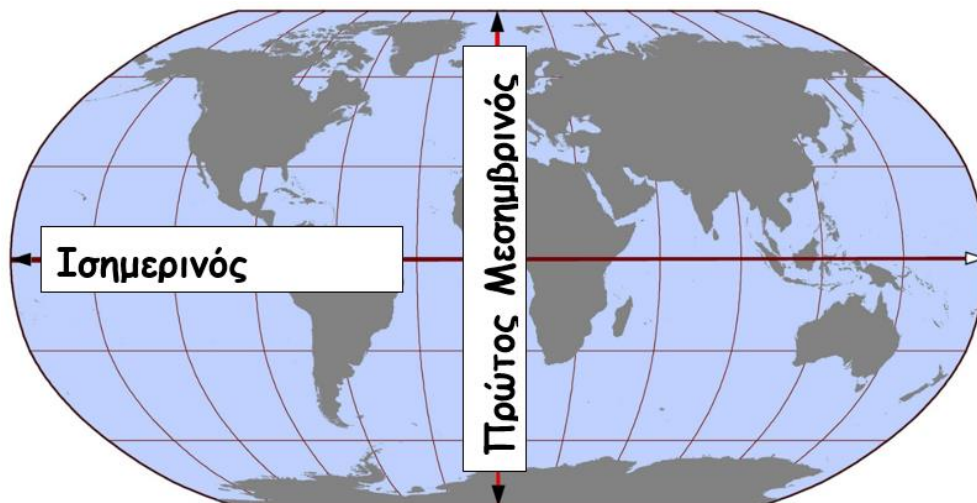
γ) Η Ελλάδα βρίσκεται από τον μεσημβρινό του Γκρίνουιτς.

Η Ελλάδα βρίσκεται στο ημισφαίριο.

3. Συζητάμε τις παρατηρήσεις μας από τις δραστηριότητες 1 και 2 και συμπληρώνουμε σε ποια ημισφαίρια βρίσκεται η χώρα μας:

**Η Ελλάδα βρίσκεται στο και
στο**

4. Τοποθετούμε το όνομα της Ελλάδας (με κόκκινο χρώμα) εκεί που ταιριάζει στον παράκατω χάρτη, σύμφωνα με αυτά που μάθαμε.



https://www.wikiwand.com/el/%CE%97%CE%BC%CE%B9%CF%83%CF%86%CE%B1%CE%AF%CF%81%CE%B9%CE%B1_%CF%84%CE%B7%CF%82_%CE%93%CE%B7%CF%82

Μπορείτε τώρα να εντοπίσετε τη θέση της Ελλάδας στον παγκόσμιο χάρτη;

