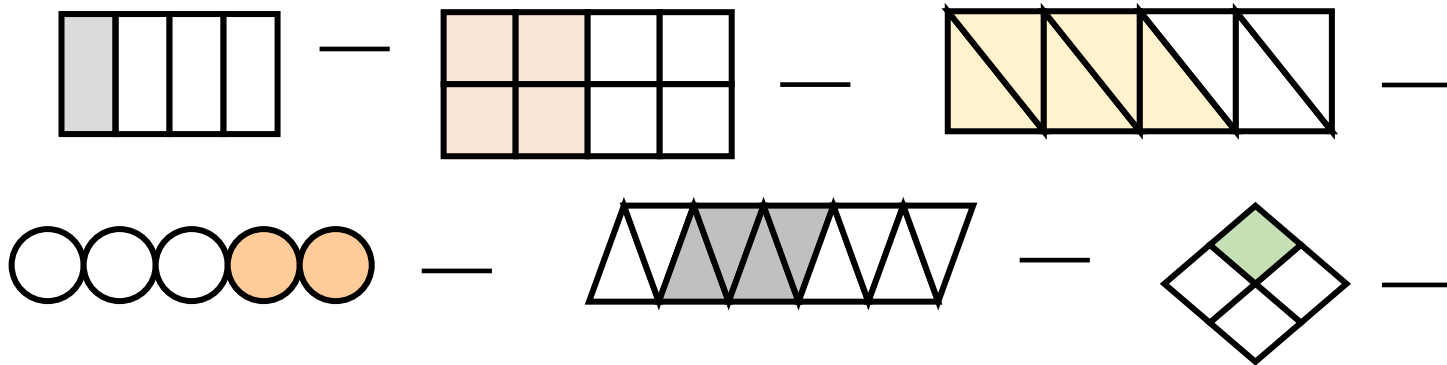
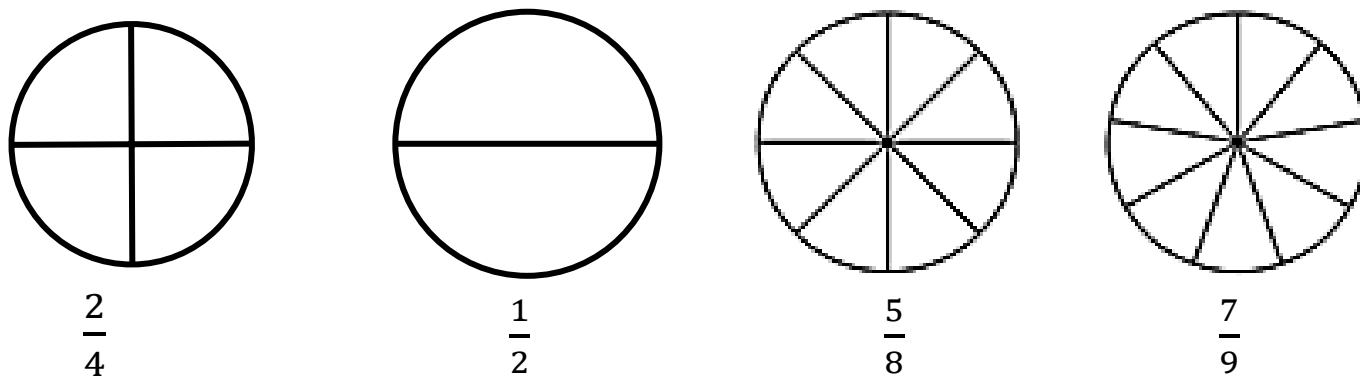


Όνομα:..... Ημερομηνία:.....

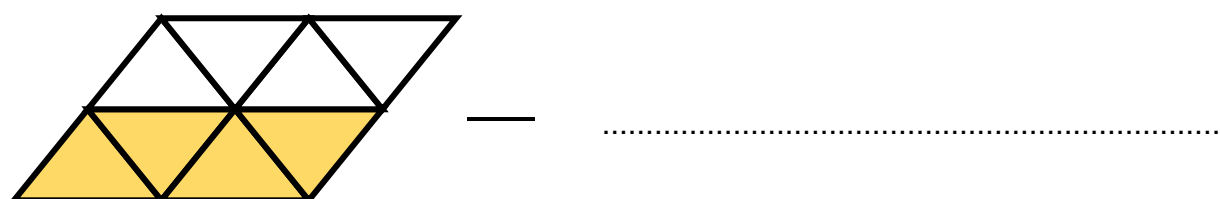
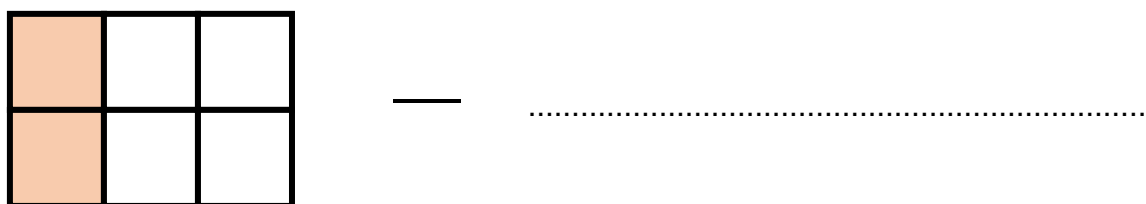
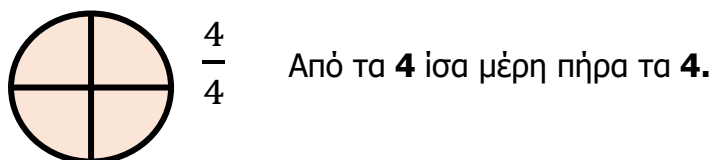
1. Γράφω το κατάλληλο κλάσμα, που δείχνει τι μέρος κάθε σχήματος είναι χρωματισμένο.



2. Χρωματίζω το μέρος του σχήματος που λέει το κλάσμα.



3. Γράφω το κλάσμα και τι σημαίνει, όπως στο παράδειγμα.



#### 4. Γράφω πώς διαβάζονται τα παρακάτω κλάσματα.

π.χ.  $\frac{2}{4}$  δύο τέταρτα

$\frac{4}{7}$  .....

$\frac{3}{5}$  .....

$\frac{2}{8}$  .....

$\frac{1}{6}$  .....

$\frac{3}{4}$  .....

#### 5. Γράφω τα κλάσματα.

π.χ.  $\frac{2}{6}$  δύο έκτα

\_\_\_\_\_ έξι όγδοα

\_\_\_\_\_ τέσσερα έβδομα

\_\_\_\_\_ τρία έκτα

\_\_\_\_\_ ένα τρίτο

\_\_\_\_\_ δύο πέμπτα