

Οι κλασματικές μονάδες και οι απλοί κλασματικοί αριθμοί

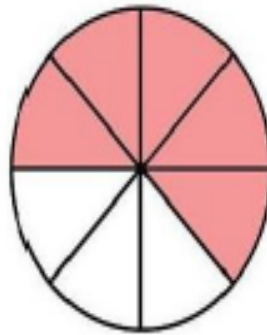
Όνομα:.....

1. Γράψε με κλάσμα το μέρος που είναι χρωματισμένο. Έπειτα κύκλωσε τις κλασματικές μονάδες


Α.



Β.



Γ.



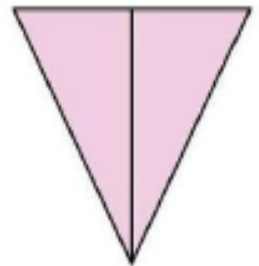
Δ.



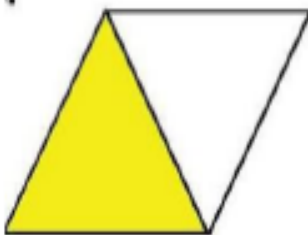
Ε.



ΣΤ.



Δ.



Ε.



ΣΤ.



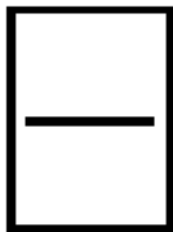
2. Τα παιδιά μοιράστηκαν τα παρακάτω μπισκότα.



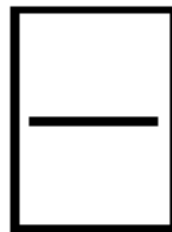
Όλα τα
μπισκότα είναι

Γράφω με κλάσμα πόσα μπισκότα πήρε το κάθε παιδί.

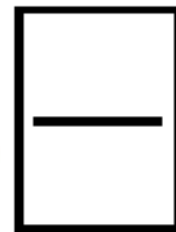
Πέτρος




Ελπίδα



Φωτεινή



3. Γέμισε την γυάλα με μπίλιες σύμφωνα με τις οδηγίες:



Το $\frac{1}{9}$ να είναι κόκκινες

Τα $\frac{3}{9}$ να είναι πράσινες

Τα $\frac{5}{9}$ να είναι κίτρινες