

Όνομα:..... Ημερομηνία:.....

ΜΑΘΗΜΑΤΙΚΑ 4^η ΕΝΟΤΗΤΑ
Κεφ.22 Εισαγωγή στα κλάσματα 1

1. Γράφω πώς ονομάζονται οι όροι του κλάσματος.

Three empty boxes are provided for labeling the parts of the fraction $\frac{1}{4}$. The top box is connected to the numerator '1', the middle box to the fraction bar, and the bottom box to the denominator '4'.


2. Γράφω πώς διαβάζονται τα παρακάτω κλάσματα, όπως το παράδειγμα.

- $\frac{1}{2}$ _____
- $\frac{1}{3}$ _____
- $\frac{2}{4}$ _____
- $\frac{3}{5}$ _____

Το κλάσμα αυτό διαβάζεται ένα τέταρτο.



3. Γράφω με κλάσμα τα καρότα που μάζεψε κάθε φορά ο λαγός.



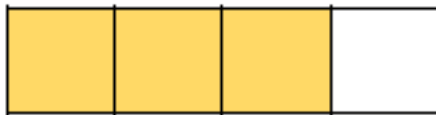
4. Βρίσκω το κλάσμα. Έπειτα περιγράφω με λόγια τι μου δείχνει το κάθε κλάσμα.

$$\frac{1}{4}$$



Από τα 4 μέρη έβασα το 1


$$\frac{\quad}{\quad}$$



$$\frac{\quad}{\quad}$$



$$\frac{\quad}{\quad}$$



$$\frac{\quad}{\quad}$$