

Όνομα:

Ημερομηνία:.....

1. Γράφω πώς διαβάζονται τα παρακάτω κλάσματα. $\frac{1}{4}$ $\frac{5}{6}$ $\frac{3}{7}$ $\frac{2}{5}$ $\frac{8}{9}$ $\frac{4}{8}$ **2. Γράφω τα κλάσματα.**

_____ τρία έκτα

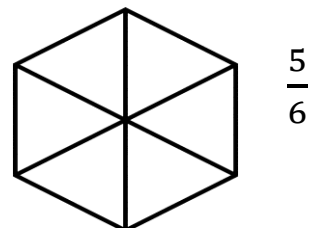
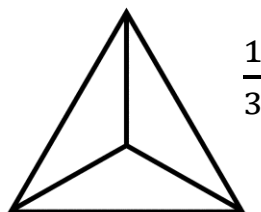
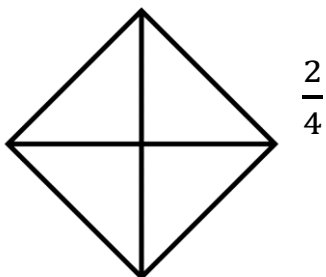
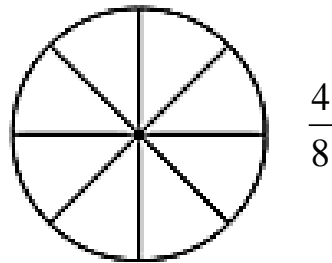
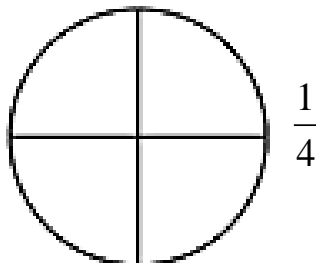
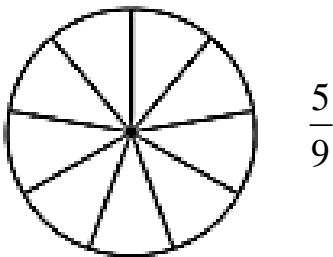
_____ δύο τρίτα

_____ πέντε έβδομα


_____ τρία όγδοα

_____ έξι ένατα

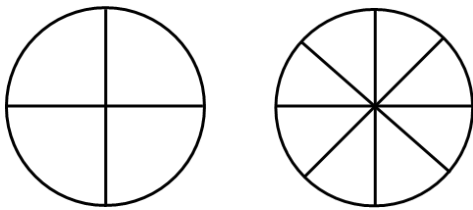
_____ ένα δέκατο

3. Χρωματίζω το μέρος του σχήματος που λέει κάθε κλάσμα.

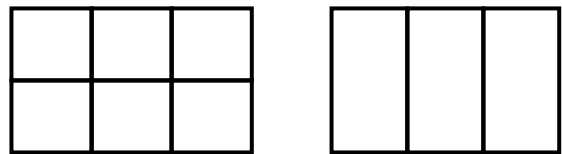
4. Κυκλώνω ότι λέει το κλάσμα.



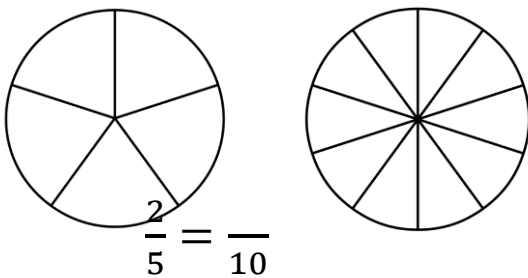
5. Χρωματίζω τα σχήματα ώστε να προκύπτουν ισοδύναμα κλάσματα.



$$\frac{3}{4} = \frac{6}{8}$$



$$\frac{4}{6} = \frac{2}{3}$$



$$\frac{2}{5} = \frac{4}{10}$$

Καλή επιτυχία ...