

Όνομα: \_\_\_\_\_

## Κάθετη Διαίρεση

- Ένα ψηφίο έχει ο διαιρέτης, ένα χωρίζω από αριστερά και λέμε.
- Το 2 στο 3 χωράει μία φορά. Σημειώνω 1 στο πηλίκο.
- $1 \times 2 = 2$ . Σημειώνω το 2 κάτω από το 2 και αφαιρώ.
- $3 - 2 = 1$ . Κατεβάζω το 4.
- Το 2 στο 14 χωράει 7 φορές. Το σημειώνω στο πηλίκο
- $2 \times 7 = 14$ . Το σημειώνω κάτω από το 14 και αφαιρώ.
- $14 - 14 = 0$ . Κατεβάζω και το 6.
- Το 2 στο 6 χωράει 3 φορές. Το σημειώνω στο πηλίκο.
- $2 \times 3 = 6$ . Το σημειώνω κάτω από το 6 και αφαιρώ.
- $6 - 6 = 0$

$$\begin{array}{r} \text{δαιρετέος} \swarrow \\ \begin{array}{r} 111 \\ \boxed{346} \\ - 2 \\ \hline 14 \\ - 14 \\ \hline 006 \\ - 6 \\ \hline \boxed{00} \\ \text{υπόλοιπο} \end{array} \end{array} \quad \begin{array}{r} \swarrow \text{δαιρέτης} \\ \boxed{2} \\ \hline \boxed{173} \\ \swarrow \text{πηλίκο} \end{array}$$

1. Να κάνετε τις παρακάτω διαιρέσεις κάθετα



$$\begin{array}{r} 225 \\ \boxed{\phantom{000}} \\ \hline \phantom{000} \end{array} \quad \begin{array}{r} 5 \\ \hline \phantom{000} \end{array}$$



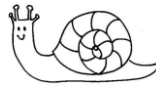
$$\begin{array}{r} 112 \\ \boxed{\phantom{000}} \\ \hline \phantom{000} \end{array} \quad \begin{array}{r} 7 \\ \hline \phantom{000} \end{array}$$




$$\begin{array}{r} 685 \\ \boxed{\phantom{000}} \\ \hline \phantom{000} \end{array} \quad \begin{array}{r} 5 \\ \hline \phantom{000} \end{array}$$



396		3




456		3



752		4



225		5



225		5



225		5

2. Ένας φούρνος σε μία βδομάδα (7 ημέρες) φτιάχνει 896 καρβέλια ψωμί. Πόσα καρβέλια ψωμί φτιάχνει την ημέρα;

Δεδομένα

Ζητούμενο

Λύση



Απάντηση:.....