

## Θυμάμαι τους δεκαδικούς αριθμούς

Όνομα: \_\_\_\_\_

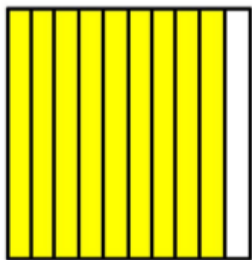
### 1. Κόκλωσε μόνο τους δεκαδικούς αριθμούς ΣΠΙΤΙ

<u>0,560</u>	36,09	5.345	542,1	8,56	31
678	6,780	3,05	3460	560	0,04

Σε ποιους από τους παραπάνω αριθμούς υπάρχουν μηδενικά που δεν επηρεάζουν την αξία τους;

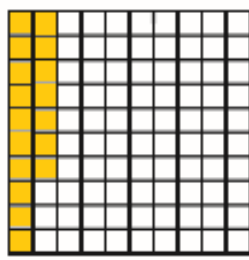
.....

### ~~2.~~ Ποιος δεκαδικός αριθμός είναι;



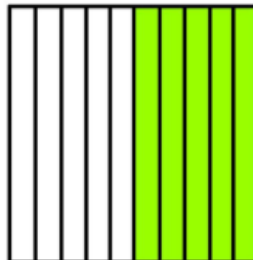
9 δέκατα

.....  
0,9



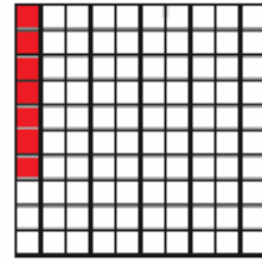
17 εκατοστά

.....  
0,17



5 δέκατα


.....  
0,5




7 εκατοστά

.....  
0,07


### ~~3.~~ Χρωμάτισε τον δεκαδικό αριθμό




**0,47**



**0,3**

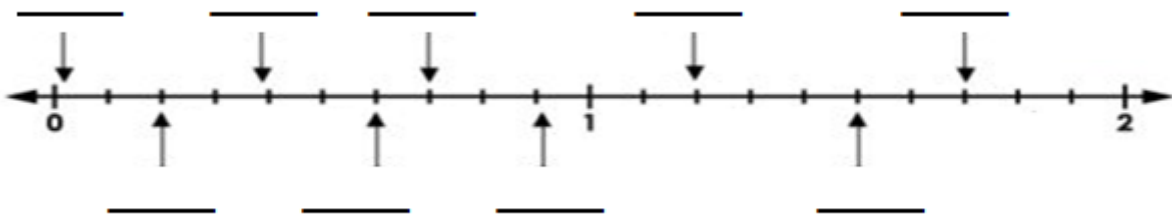


**0,6**



**0,85**

~~4~~ Γράψε τους δεκαδικούς αριθμούς πάνω στην αριθμογραμμή



5. Γράψε την αξία του υπογραμμισμένου ψηφίου

ΣΠΗΤΙ

0, <u>9</u> 7	εκατοστά
1 <u>2</u> ,67	
6, <u>9</u> 0	
<u>1</u> 45,0 <u>1</u>	
4,00 <u>1</u>	
<u>5</u> .789,3	

6. Γράψε με δεκαδικό αριθμό

ΣΠΗΤΙ

- ❖ 5 δέκατα... 0,5 .....
- ❖ 7 χιλιοστά... 0,007 .....
- ❖ 3 εκατοστά.....
- ❖ 32 χιλιοστά.....
- ❖ 2 μονάδες και 5 δέκατα.....

9 χιλιοστά



7. Γράψε με λόγια τους δεκαδικούς αριθμούς

ΣΠΗΤΙ

- ❖ 4,56... 4 και 56 εκατοστά .....
- ❖ 32,6.....
- ❖ 124,8.....
- ❖ 0,004.....
- ❖ 12,107.....