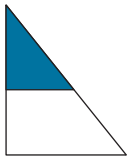
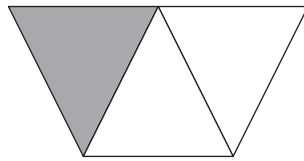


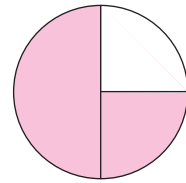
3. Να σημειώσεις **Ορθό** ή **Λάθος** σε κάθε πρόταση.



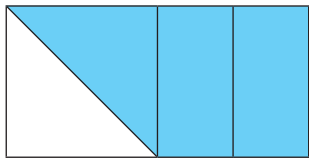
Το $\frac{1}{2}$ του τριγώνου είναι σκιασμένο με μπλε χρώμα.



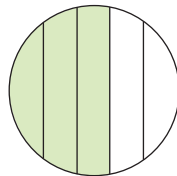
Το $\frac{1}{3}$ του τραπεζίου είναι σκιασμένο με γκριζο χρώμα.



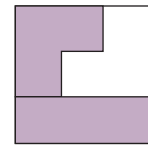
Το $\frac{1}{4}$ του κύκλου είναι σκιασμένο με ροζ χρώμα.



Τα $\frac{3}{4}$ του ορθογώνιου είναι σκιασμένα με γαλάζιο χρώμα.

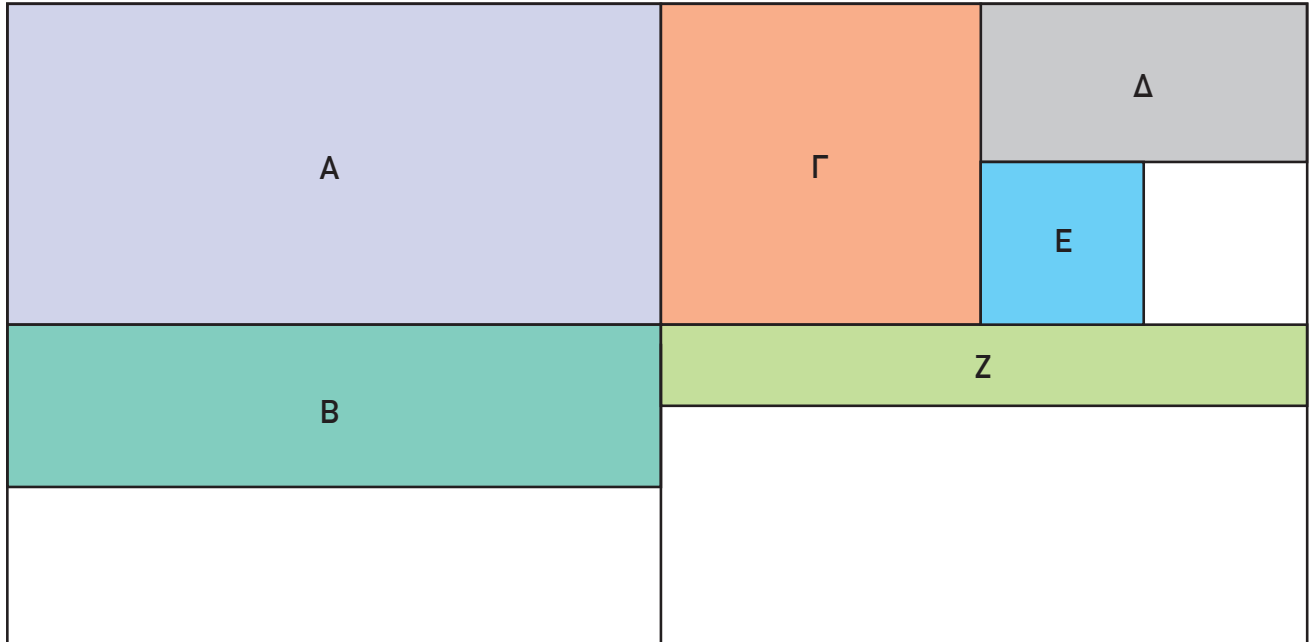


Τα $\frac{3}{5}$ του κύκλου είναι σκιασμένα με πράσινο χρώμα.




Τα $\frac{2}{3}$ του τετραγώνου είναι σκιασμένα με μοβ χρώμα.

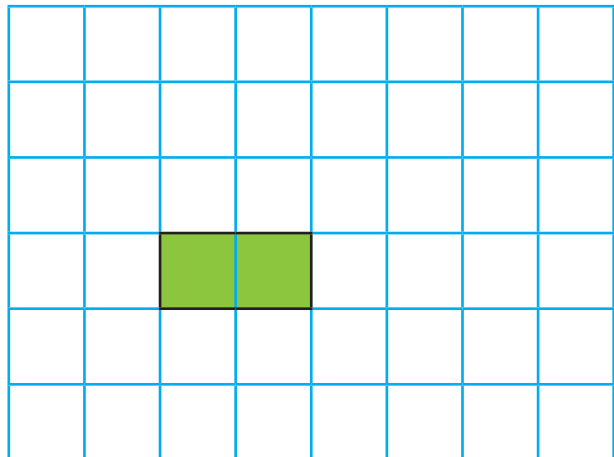
4. Τι μέρος ολόκληρου του ορθογώνιου εκφράζουν τα σχήματα **A**, **B**, **Γ**, **Δ**, **E** και **Z**;



5. (α) Να σχεδιάσεις ολόκληρο το σχήμα, αν το κίτρινο τετράγωνο παρουσιάζει το $\frac{1}{5}$ ενός σχήματος.



(β) Να σχεδιάσεις ολόκληρο το σχήμα, αν το πράσινο ορθογώνιο παρουσιάζει τα $\frac{2}{7}$ ενός σχήματος.



6. Δύο λωρίδες χαρτιού έχουν κοπεί, όπως φαίνεται πιο κάτω. Ποια λωρίδα είχε αρχικά μεγαλύτερο μήκος; Να επεξηγήσεις.