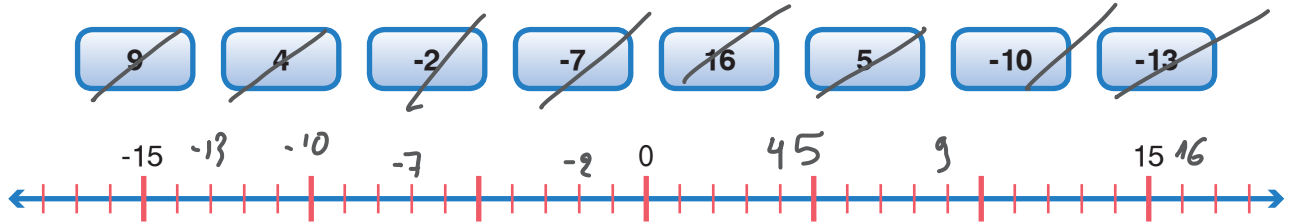


1η Άσκηση

α. Να τοποθετήσεις τους παρακάτω αριθμούς στην αριθμογραμμή:



β. Με τη βοήθεια της παραπάνω αριθμογραμμής να διατάξεις τους αριθμούς από τον μεγαλύτερο στον μικρότερο.

$$16 > 9 > 5 > 4 > -2 > -7 > -10 > -13$$

2η Άσκηση

Να συμπληρώσεις τους αριθμούς που λείπουν στην αριθμογραμμή:



3η Άσκηση

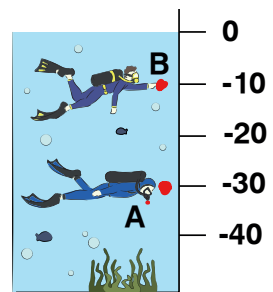
Μια δύτρια βρισκόταν στη θέση Α κάτω από την επιφάνεια της θάλασσας και κολύμπησε προς τα πάνω μέχρι τη θέση Β, όπως φαίνεται στη διπλανή εικόνα.

α. Πόσα μέτρα συνολικά κολύμπησε από τη θέση Α στη θέση Β;

20 μ

β. Πόσα μέτρα από τη θέση Β χρειάζεται να κολυμπήσει, για να αναδυθεί στην επιφάνεια της θάλασσας;

10 μ



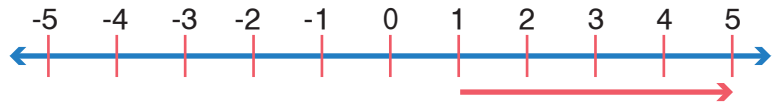
Βάθος σε μ.

4η Άσκηση

Να συμπληρώσεις ό,τι λείπει στην αριθμογραμμή και στο κουτάκι, όπως στο παράδειγμα.

α. Ξεκινάω από το 1 και προσθέτω 4.

Θα σταματήσω στο 5.



β. Ξεκινάω από το 3 και αφαιρώ 8.

Θα σταματήσω στο -5.

