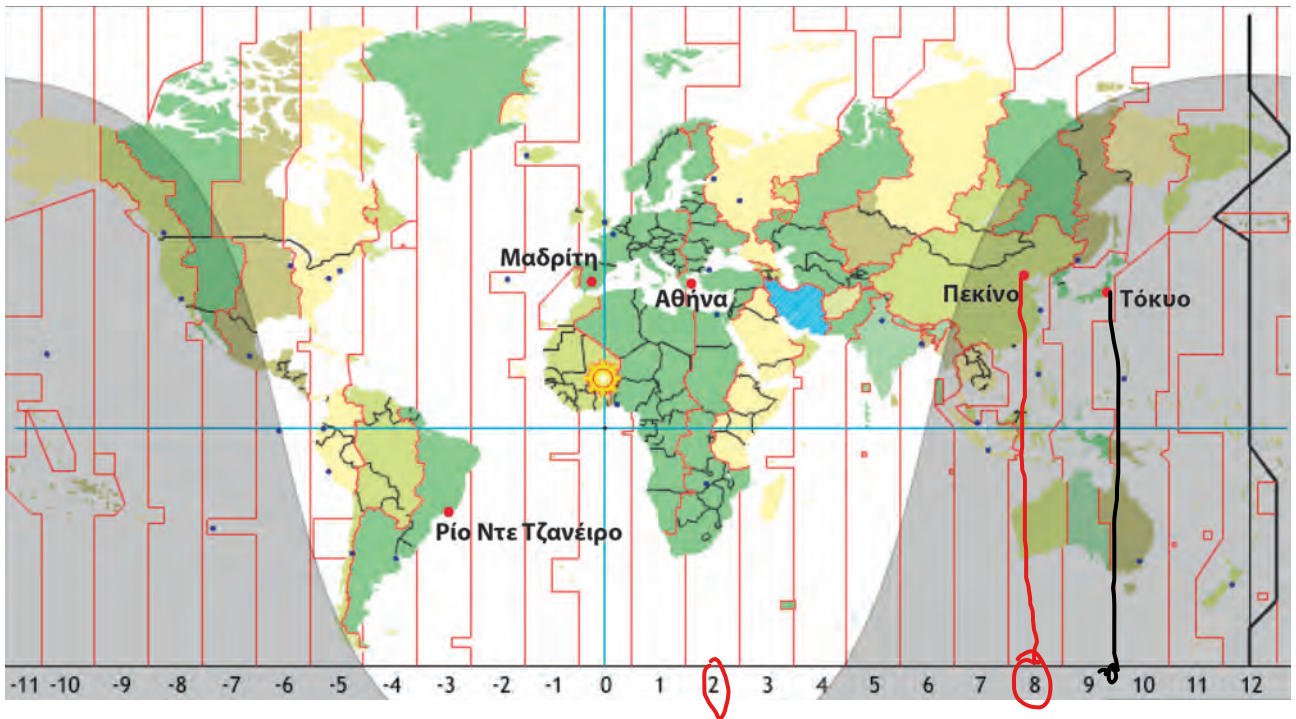


3ο Πρόβλημα



α. Συζητάμε στην τάξη τι δείχνει ο παραπάνω χάρτης.

β. Να παρατηρήσεις τον χάρτη και να συμπληρώσεις στον διπλανό πίνακα τη διαφορά ώρας που έχει η Αθήνα με ορισμένες πόλεις στη Γη.

Πόλεις	Διαφορά ώρας
Πεκίνο	+6
Μαδρίτη	-2
Ρίο Ντε Τζανέιρο	-5

15:00

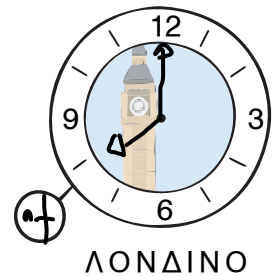
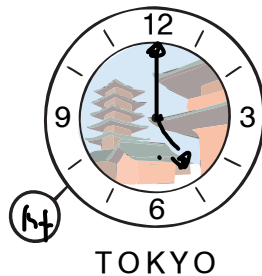
γ. Αν στην Αθήνα είναι 3 μ.μ. , τι ώρα είναι:

- στο Πεκίνο; 21:00
- στη Μαδρίτη; 13:00
- στο Ρίο Ντε Τζανέιρο; 10:00

δ. Παρατηρώντας τον χάρτη να συμπληρώσεις στον πίνακα τους αριθμούς που δείχνουν τη διαφορά ώρας που έχει η Αθήνα με τις παρακάτω πόλεις:

Πόλεις	Διαφορά ώρας
Τόκυο	+7
Λονδίνο	-2

Να σχεδιάσεις την ώρα στα ρολόγια του Τόκυο και του Λονδίνου με βάση την ώρα που δείχνει το ρολόι στην Αθήνα.



17:00

10:00

08:00