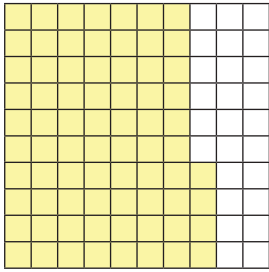
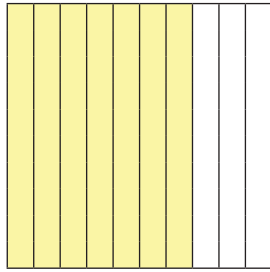


1η Άσκηση


Να εκφράσεις το μέρος του όλου που είναι χρωματισμένο κίτρινο με:



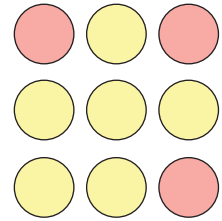
ποσοστό %
74%



κλασματικό αριθμό
 $\frac{7}{10}$



δεκαδικό αριθμό
0,6



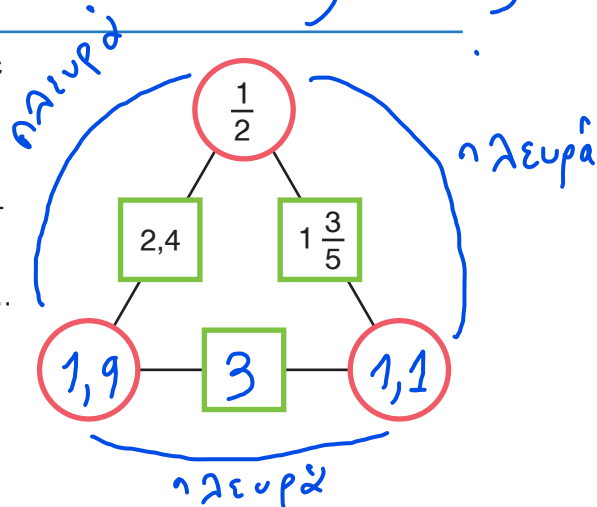
κλασματικό αριθμό
 $\frac{6}{9}$ ή $\frac{2}{3}$

2η Άσκηση

α. Να συμπληρώσεις το διπλανό πολύγωνο αριθμών. Σε κάθε πλευρά του οι αριθμοί στα τετράγωνα είναι το άθροισμα των αριθμών στους κύκλους.

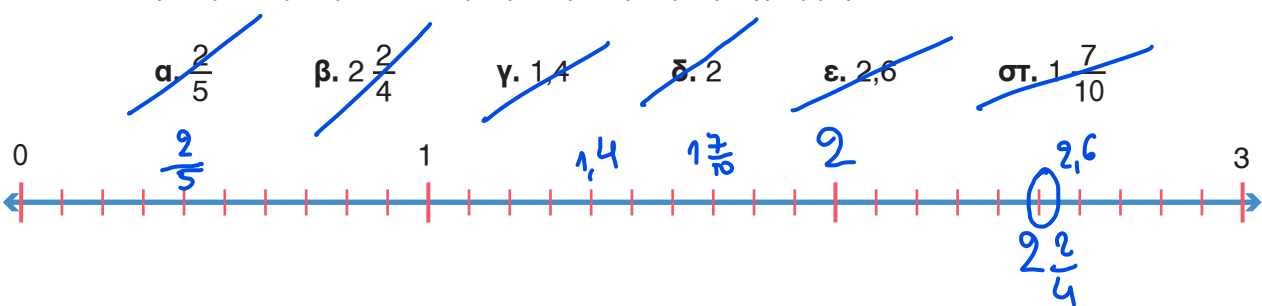
β. Να υπολογίσεις το 30% του αριθμού με τον οποίο συμπλήρωσες το κενό τετράγωνο.

$$\frac{30}{100} \times 3 = \frac{90}{100} = 0,9$$



3η Άσκηση

Να τοποθετήσεις τους παρακάτω αριθμούς στην αριθμογραμμή:



4η Άσκηση

Να τοποθετήσεις σε σειρά τους παρακάτω αριθμούς από τον μικρότερο στον μεγαλύτερο:

- α. 1,070 β. $1 \frac{2}{4}$ γ. 1,700 δ. 1,570 ε. 1,065 στ. $1 \frac{65}{100}$ ζ. $1 \frac{8}{100}$ η. $1 \frac{7}{1.000}$

