





Επανάληψη ως 20




Συμπληρώνω με δύο τρόπους τον αριθμό που εκφράζει το σχήμα ή χρωματίζω κατάλληλα.



13 εκατοστά
ή




.....
ή



.....
ή 0,7

Κυκλώνω τους αριθμούς που περιέχουν μηδενικά χωρίς αξία και γράφω από κάτω τη συντομότερη μορφή τους.



Κάνω τις πράξεις κάθετα.

$156,5 + 28,6$

.....
+

.....

$34,46 + 68,63$

.....
+

.....

$23,67 + 45,317$

.....
+

.....

$145,5 + 8,691$

.....
+

.....

$78,3 - 35,7$

.....
-

.....

$123,45 - 67,89$

.....
-

.....

$93,4 - 25,78$

.....
-

.....

$52,13 - 18,7$

.....
-

.....

Συμπληρώνω με <, > ή =.

α) 45,7 45,70

β) 72,62 72,621

γ) 9,2 90,2

δ) 72,200 72,20

ε) 980 98

στ) 1,02 12

