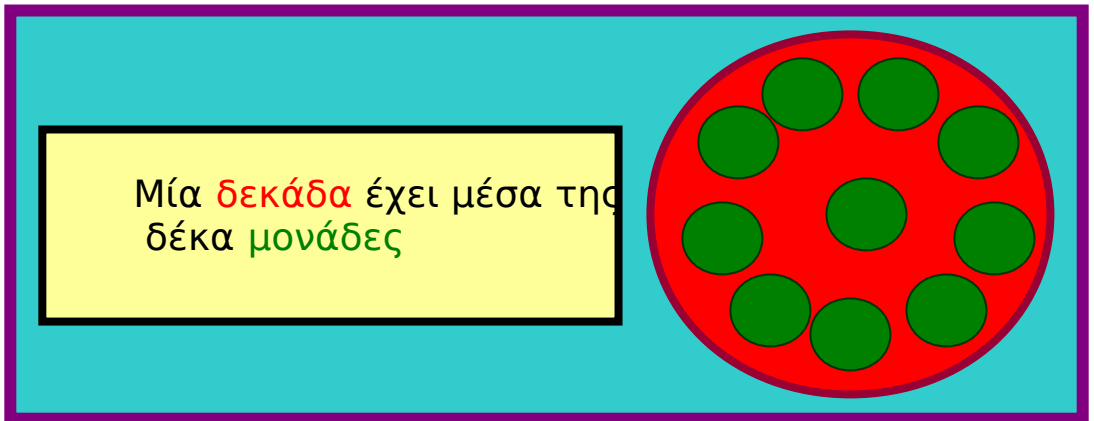
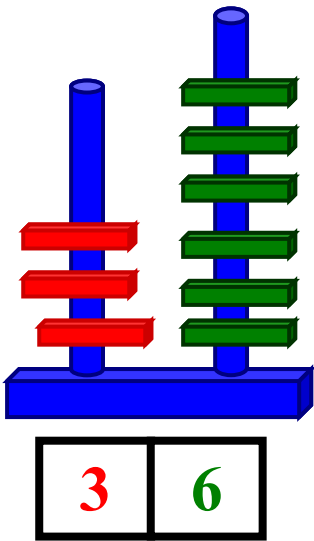
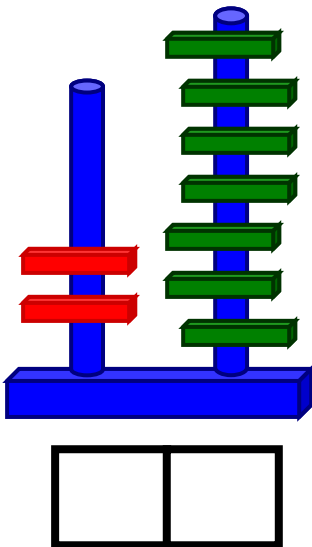


ΔΕΚΑΔΕΣ - ΜΟΝΑΔΕΣ

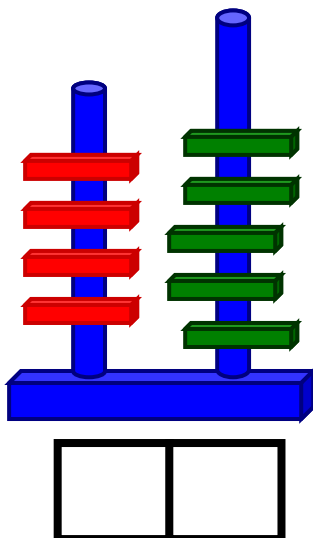
1. Εργάζομαι όπως στο παράδειγμα.



$10 + 10 + 10 + 6 = 36$
Έχει 3 Δ και 6 Μ
Είναι ο αριθμός τριάντα έξι




___ + ___ + ___ =
Έχει _____ και _____
Είναι ο αριθμός _____



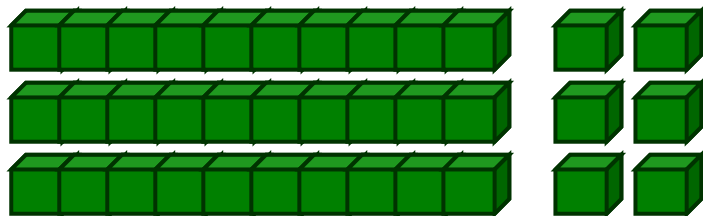
___ + ___ + ___ + ___ + ___ =
Έχει _____ και _____
Είναι ο αριθμός _____

2. Κυκλώνω κάθε φορά το σωστό αριθμό.



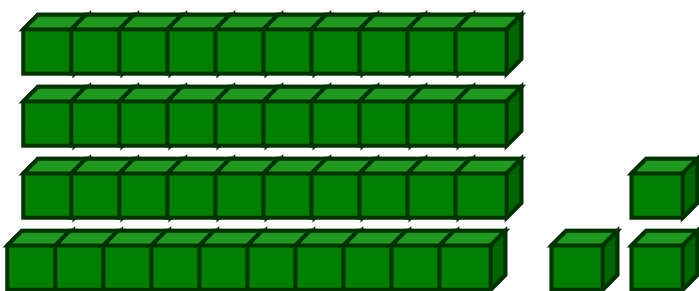
24

42



63

36



34

43

3. Γράφω τον αριθμό που είναι πριν και μετά.

20

11

10

22

30

39

31

42

40

49

38

50