


ΔΕΚΑΔΕΣ – ΜΟΝΑΔΕΣ

1. Μοιράζω τα αβγά σε καλάθια που το καθένα χωράει 10 αβγά:

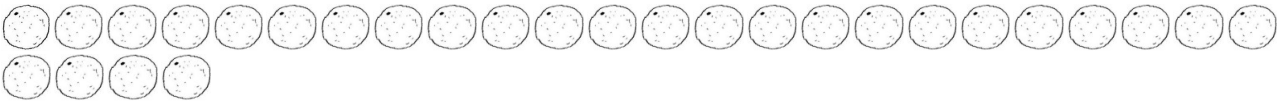


Πόσα είναι;

Δ	Μ

Περισσεύουν:.....

2. Στύβω 10 πορτοκάλια και βάζω το χυμό τους σε 1 κανάτα. Το δείχνω κυκλώνοντας. Πόσα πορτοκάλια περισσεύουν; Πόσα είναι τα πορτοκάλια ;





Πόσα είναι;

Δ	Μ

Περισσεύουν:.....

3. Κολλάω σε κάθε σελίδα 10 γραμματόσημα. Το δείχνω κυκλώνοντας. Πόσα περισσεύουν; Πόσα είναι;



Πόσα είναι;

Δ	Μ

Περισσεύουν:...

4.Κυκλώνω δεκάδες και συμπληρώνω τον πίνακα και γράφω δίπλα ποιος είναι ο αριθμός :

ΟΟΟΟΟΟΟΟΟΟΟΟΟΟΟΟ
ΟΟΟΟΟΟΟΟΟΟ

Δ	Μ

Αριθμός

Αριθμός

ΟΟΟΟ Ο ΟΟΟΟ
Ο

Δ	Μ

Αριθμός

♡♡♡♡♡
♡♡♡♡♡
♡♡♡♡
♡♡♡♡

Δ	Μ

5.Αν αγοράσω 3 δεκάδες παγωτά ,πόσα παγωτά θα έχω αγοράσει;

.....

Αν πουλήσει η γιαγιά 6 δεκάδες και 7 μονάδες αυγά ,πόσα αυγά θα έχει πουλήσει;

Αν έχω 4 δεκάδες αυτοκινητάκια και 2 αυτοκινητάκια πόσα έχω;

.....