

# Γνωρίζω καλύτερα τα κέρματα του ευρώ

Όνομα: \_\_\_\_\_

1. Πόσα χρήματα έχει το κάθε πορτοφόλι;




## 2. Έχω αυτά τα λεφτά



έχω .....

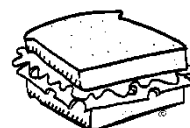
Τι από τα παρακάτω μπορώ να αγοράσω; Βάλε ν στο σωστό κουτάκια



1 ευρώ και 20 λεπτά




3 ευρώ και 50 λεπτά



1 ευρώ και 80 λεπτά

3. Πόσα χρήματα έχουν και τα δύο παιδιά μαζί; Ποιο παιδί έχει τα περισσότερα χρήματα;



ΑΠΑΝΤΗΣΗ.....