











ΟΝΟΜΑ: _____

ΜΑΘΗΜΑΤΙΚΑ 2^η ΕΝΟΤΗΤΑ

Κεφ.12: Υπολογίζω τα ρέστα (2)

1. Συμπληρώνω τον παρακάτω πίνακα.

Αγόρασα	Τα χρήματα που έχεις στην τσέπη σου.	Θα πάρεις ρέστα; (Γράφω ΝΑΙ ή ΟΧΙ)	Πόσα ρέστα θα πάρεις; (Ζωγραφίζω τα κέρματα)
 1€ 40λ.			
 2€ 50λ.			
 1€ 20λ.			
 50λ.			
 4€ 10λ.			
 3€ 70λ.			





2. Λύνω τα παρακάτω προβλήματα:

Η  αγόρασε από το μαγαζάκι ένα  που κοστίζει   

Έδωσε   

Πόσα ρέστα θα πάρει; Ζωγράφισε εδώ.



Ο  αγόρασε από το ίδιο μαγαζί ένα  που κοστίζει  

Έδωσε 

Πόσα ρέστα θα πάρει; Ζωγράφισε εδώ.



Η  αγόρασε ένα  που κοστίζει   

Έδωσε   

Πόσα ρέστα θα πάρει; Ζωγράφισε εδώ.

