

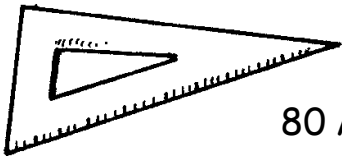


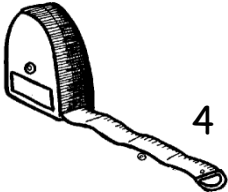

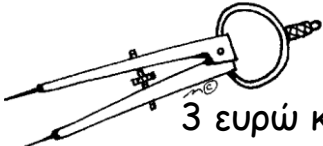

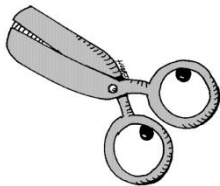


## Υπολογίζω τα ρέστα

Όνομα: \_\_\_\_\_


### 1. Σκέψου καλά και συμπλήρωσε τον παρακάτω πίνακα

Κοστίζει	Δίνω	Παίρνω ρέστα
 2 ευρώ και 20 λεπτά		
 80 λεπτά		
 12 ευρώ		3 ευρώ
 4 ευρώ και 50 λεπτά		
 3 ευρώ και 30 λεπτά		
 2 ευρώ και 60 λεπτά		2 ευρώ και 40 λεπτά

2. Ο Άρης αγόρασε από το κυλικείο ένα τoστ που κόστιζε 1 ευρώ και 50 λεπτά και ένα χυμό που κοστίζει 1 ευρώ και 20 λεπτά.

A. Πόσο κοστίζουν και τα δύο προϊόντα μαζί;

B. Αν έχει 3 ευρώ, πόσα ρέστα θα πάρει;



1 ευρώ και 50 λεπτά

1 ευρώ και 50 λεπτά

ΛΥΣΗ

ΣΩΓΡΑΦΙΣΩ

A.

B.

ΑΠΑΝΤΗΣΗ

.....

.....

.....