



ΜΑΘΗΜΑΤΙΚΑ Β' ΤΑΞΗΣ


ΟΝΟΜΑ:.....




ΕΝΟΤΗΤΑ 2η

11. ΓΝΩΡΙΖΩ ΚΑΛΥΤΕΡΑ ΤΑ ΚΕΡΜΑΤΑ ΤΟΥ ΕΥΡΩ (€)

© stintaxi.com



Παρακάτω βλέπεις τα ελληνικά κέρματα του ευρώ. Μπορείς να αντιστοιχίσεις την μπροστινή με την πίσω όψη;



Ποια σχολικά είδη μπορούμε να αγοράσουμε με τα χρήματα που υπάρχουν σε κάθε πορτοφόλι;



1 €

20 λ.



45 λ.



3 €

50 λ.




5 €

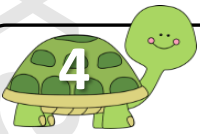

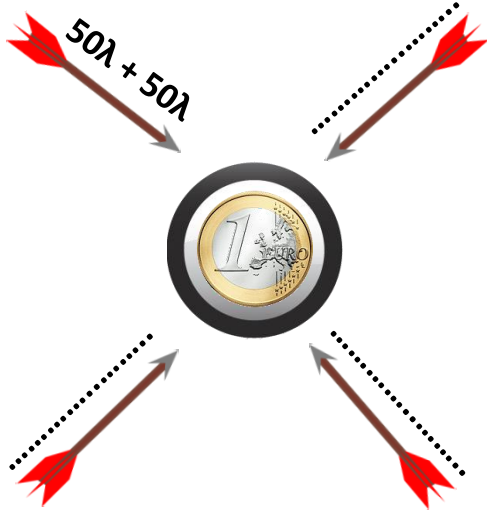


1 €


30 λ.



Με ποια από τα κέρματα αριστερά μπορούμε να φτιάξουμε τα νομίσματα που υπάρχουν στους στόχους; Χρησιμοποίησε όσες φορές θέλεις κάθε νόμισμα.



Η Ελένη έχει 3 €. Μπορεί να αγοράσει τους χυμούς που θέλει;

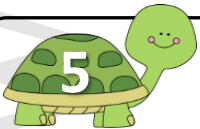


Εκτιμώ: Ναι Όχι

Υπολογίζω:

Οι δύο χυμοί κοστίζουν

Απαντώ:



Ο Πάνος θέλει να αγοράσει ένα μολύβι που κοστίζει 85 λεπτά. Έχει στην τσέπη του 50 λεπτά. Πόσα χρήματα πρέπει να ζητήσει από τη μαμά του ακόμα;



Εκτιμώ: Πρέπει να ζητήσει

Υπολογίζω:

Απαντώ: