

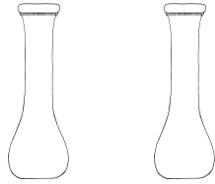
Μοιράζομαι δίκαια με τους φίλους μου

Όνομα: _____

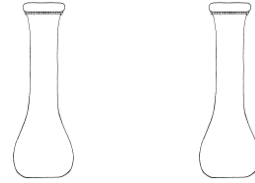
1. Μοίρασε δίκαια τα παρακάτω αντικείμενα



:



=


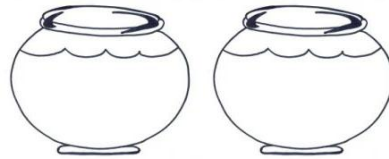



2 λουλούδια

τα μοιράζω σε 2 βάζα



σε κάθε βάζο




4 ψάρκια

τα μοιράζω σε 2 γυάλες



σε κάθε γυάλα



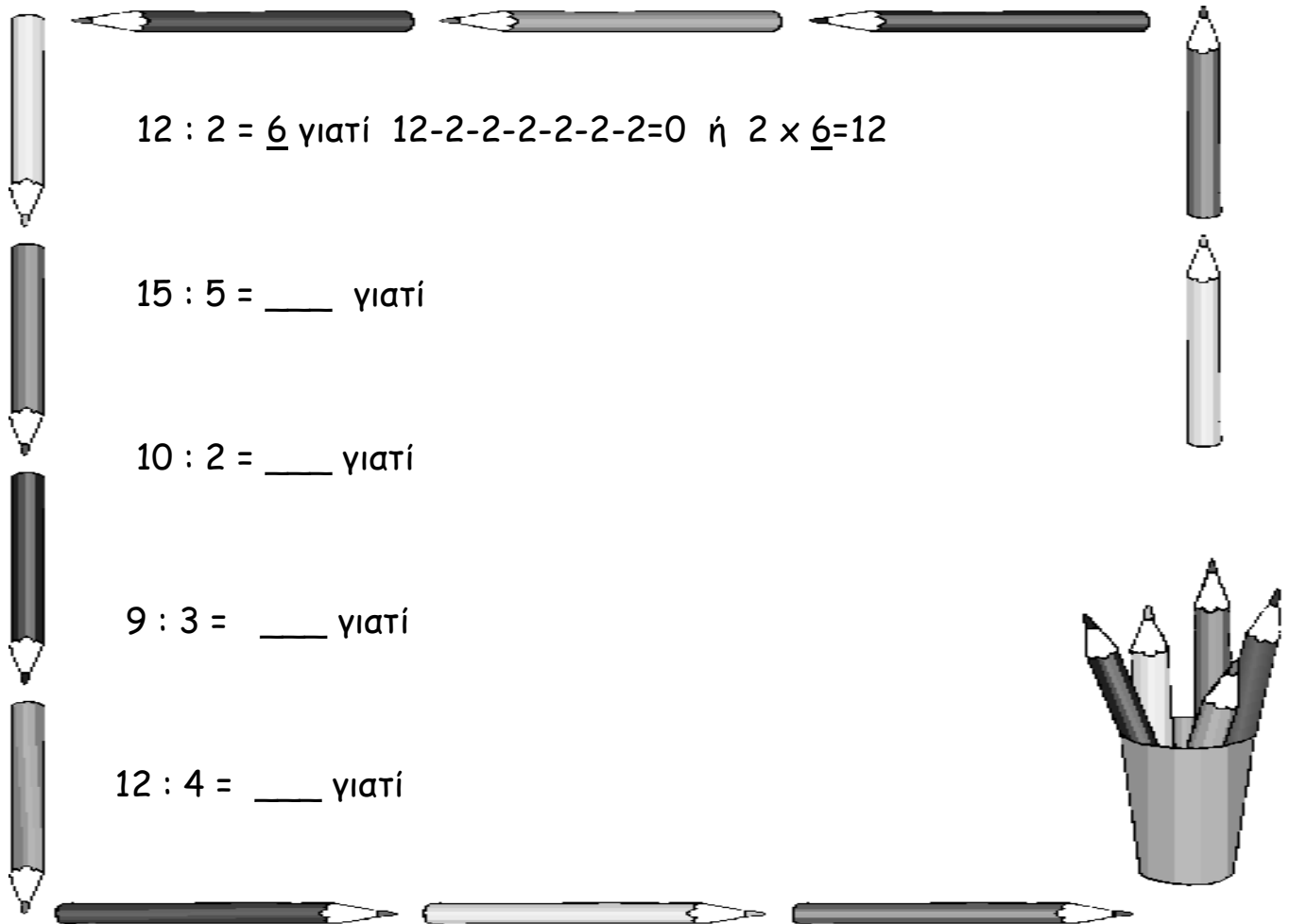
6 μπισκότα

τα μοιράζω σε 2 πιάτα



σε κάθε πιάτο

2. Κάνε τις παρακάτω διαιρέσεις, όπως το παράδειγμα



$12 : 2 = \underline{6}$ γιατί $12 - 2 - 2 - 2 - 2 - 2 - 2 - 2 = 0$ ή $2 \times \underline{6} = 12$

$15 : 5 = \underline{\quad}$ γιατί

$10 : 2 = \underline{\quad}$ γιατί

$9 : 3 = \underline{\quad}$ γιατί

$12 : 4 = \underline{\quad}$ γιατί

3. Έχεις 16 καραμέλες και θέλεις να τις μοιράσεις σε 4 σακουλάκια. Πόσες καραμέλες θα έχει το κάθε σακουλάκι;

ΛΥΣΗ

ΖΩΓΡΑΦΙΣΩ

ΑΠΑΝΤΗΣΗ _____