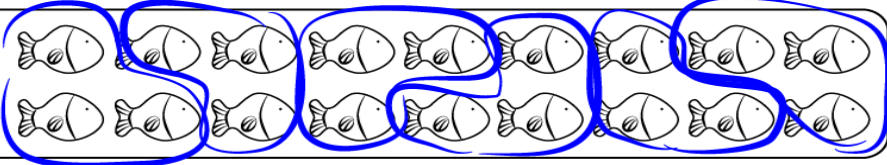


Μοιράζω δίκαια με τους φίλους μου

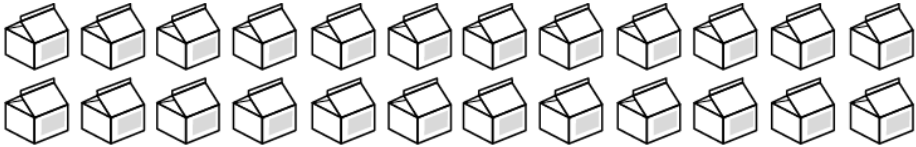
Όνομα: _____

1. Κάνε τις παρακάτω διαιρέσεις όπως το παράδειγμα


$18 \div 3 = 6$




$24 \div 8 = \underline{\quad}$



$25 \div 5 = \underline{\quad}$



$27 \div 3 = \underline{\quad}$



$20 \div 5 = \underline{\quad}$



2. Λύνω τα παρακάτω προβλήματα

A.

Η Ειρήνη έχει 32 παστέλ. Πόσα κουτιά αγόρασε;



ΛΥΣΗ

_____ : _____ = _____

ΑΠΑΝΤΗΣΗ

B

Ο Μιχάλης αγόρασε 54 μήλα. Πόσα δηλαδή κουτιά αγόρασε;

ΛΥΣΗ

_____ : _____ = _____

ΑΠΑΝΤΗΣΗ

