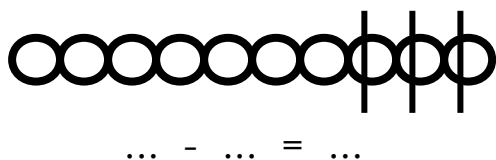
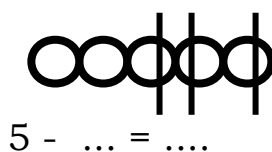
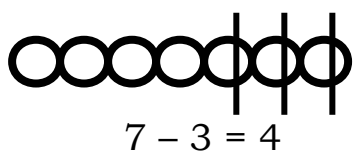


#### 4. Εξάσκηση στις αφαιρέσεις

1. Δουλεύω όπως το παράδειγμα.



2. **Διαγράφω** τόσα κυκλάκια όσα μου λέει ο αριθμός και βρίσκω πόσα μένουν, όπως στο παράδειγμα.

