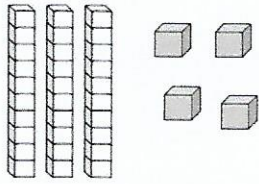




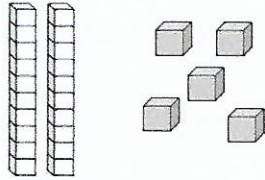
• Συμπλήρωσε όπως το παράδειγμα:



Δεκάδες	Μονάδες
3	4

⇒

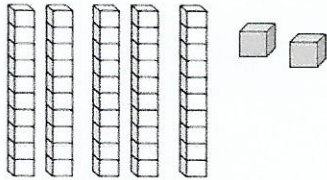
Μαθηματική πρόταση: $30 + 4 = 34$



Δεκάδες	Μονάδες

⇒

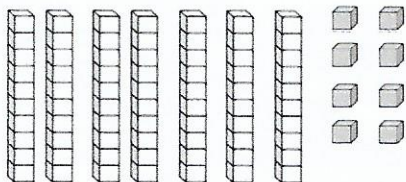
Μαθηματική πρόταση:



Δεκάδες	Μονάδες

⇒


Μαθηματική πρόταση:



Δεκάδες	Μονάδες

⇒

Μαθηματική πρόταση:



• Λύσε με προσοχή τις μαθηματικές προτάσεις:

$10 + 5 = \square$

$10 + 4 = \square$

$10 + 7 = \square$

$10 + 9 = \square$

$10 + 8 = \square$

$10 + 2 = \square$

$20 + 6 = \square$

$50 + 3 = \square$

$30 + 1 = \square$

$70 + 1 = \square$

$80 + 9 = \square$

$90 + 8 = \square$

$40 + 9 = \square$

$50 + 3 = \square$

$30 + 1 = \square$

$90 + 2 = \square$

$70 + 2 = \square$

$90 + 5 = \square$

