

Κυκλοφοριακή Αγωγή

Δραστηριότητα 1. Αντιστοίχιση.



Γρηγόρης



Φανάρια αυτοκινήτων



Σταμάτης

Δραστηριότητα 2. Το παιδάκι στην εικόνα κρατά μια πινακίδα σήμανσης.

Εμείς τι πρέπει να κάνουμε;




Κύκλωσε το σωστό

α. να σταματήσουμε

β. να προχωρήσουμε


Δραστηριότητα 3. Φανάρια για τους οδηγούς.

Τι πρέπει να κάνει ο οδηγός βλέποντας το κάθε χρώμα;



Μέσα συγκοινωνίας και μεταφοράς

Δραστηριότητα 4. Γράψε κάτω από την κάθε εικόνα το μέσο μεταφοράς και συγκοινωνίας ή όχημα έκτακτης ανάγκης που βλέπεις.



Μέτρα προστασίας για σεισμό

Δραστηριότητα 5. Τα βήματα που ακολουθώ σε περίπτωση σεισμού.

Κόψε και κόλλησε τις εικόνες με τη σειρά κάτω από τους αριθμούς 1, 2 και 3.

1

2

3

Οι εικόνες της δραστηριότητας 5



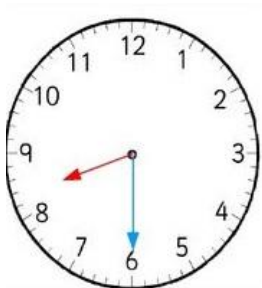
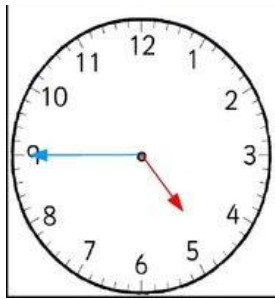
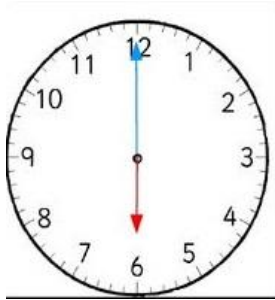
Τα συναισθήματα

Δραστηριότητα 6. Σκέψου και γράψε πότε....

ΠΌΤΕ...	
φοβάσαι;	λυπάσαι;
χαίρεσαι;	θυμώνεις;

Η ώρα

Δραστηριότητα 7. Τι ώρα δείχνουν τα ρολόγια;



Τα χρήματα. Η τιμή στα προϊόντα κατανάλωσης. Υπολογισμοί με το ευρώ

Δραστηριότητα 8. Συμπλήρωσε τις προτάσεις με τις λέξεις από τον πίνακα.

ευρώ, κέρματα, αγοράζω τρόφιμα, χαρτονομίσματα, πληρώνω το λογαριασμό του τηλεφώνου

Τα χρήματα μου χρειάζονται για να _____, να _____
και για πολλούς άλλους λόγους.

Τα χρήματα χωρίζονται στα _____ και στα _____

Στην Ελλάδα χρησιμοποιούμε το _____.

- Μπορείς να γράψεις το σύμβολο του ευρώ;

Δραστηριότητα 9. Γράψε κάτω από την κάθε εικόνα αν πρόκειται για τα λεπτά του ευρώ ή για ευρώ







Οι εικόνες ανακτήθηκαν από: <https://gr.pinterest.com/pin/168392473554216066/> και <https://gr.pinterest.com/pin/571605377679397888/>

και μερικώς τροποποιήθηκε για τις ανάγκες της εξατομίκευσης

Δραστηριότητα 10. Από τον τιμοκατάλογο θέλω να αγοράσω:

Δημητριακά, γάλα και ψωμί

Τιμοκατάλογος		
	ΓΑΛΑ	1 €
	ΤΥΡΙ	3 €
	ΓΙΑΟΥΡΤΙ	2 €
	ΔΗΜΗΤΡΙΑΚΑ	3 €
	ΨΩΜΙ	1 €
	ΚΡΕΑΣ	5 €
	ΨΑΡΙ	4 €
	ΑΥΓΑ	3 €
	ΚΟΤΟΠΟΥΛΟ	3 €
	ΜΑΚΑΡΟΝΙΑ	1 €
	ΠΑΤΑΤΕΣ	1 €
	ΟΣΠΡΙΑ	1 €

α. Ψάξε και γράψε τις τιμές των προϊόντων που θέλω να αγοράσω από τον τιμοκατάλογο.

Προϊόν

Τιμή

Δημητριακά

Γάλα

Ψωμί

β. Υπολόγισε το συνολικό ποσό που θα πληρώσω (πόσο κοστίζουν όλα μαζί τα προϊόντα;)

*θυμήσου ποια πράξη θα χρησιμοποιήσω;

Υπολόγισε το σύνολο:



γ. Στο πορτοφόλι μου κρατάω ένα χαρτονόμισμα των 5 ευρώ

Πόσα ρέστα θα πάρω;

*θυμήσου ποια πράξη θα χρησιμοποιήσω;

Υπολόγισε τα ρέστα;

Ήθη και έθιμα του Πάσχα

Δραστηριότητα 11. Συμπλήρωσε τις προτάσεις με τις παρακάτω λέξεις.

πασχαλινά αβγά, οβελία, επιταφίου, ψάρι, λαμπάδα


- Την Κυριακή των Βαΐων τρώμε _____
- Την Μεγάλη Πέμπτη βάζουμε τα _____
- Την Μεγάλη Παρασκευή γίνεται η περιφορά του _____
- Το Μεγάλο Σάββατο κρατάμε στην εκκλησία την _____
- Την Κυριακή του Πάσχα σουβλίζουμε τον _____

-Χριστός Ανέστη!


- Αληθώς ο _____

Δραστηριότητα 12. Ποιοι έχουν την ονομαστική τους εορτή την Κυριακή του Πάσχα;

Δραστηριότητα 12. Βρες τις διαφορές στις δύο εικόνες



www.kiddicolour.com ©2020



Καλό Πάσχα!

