

ΟΝΟΜΑ \_\_\_\_\_



# ΕΠΑΝΑΛΗΨΗ 4ης ΕΝΟΤΗΤΑΣ

## Κεφάλαιο 32

**Χρωμάτισε τα μπαλόνια που δίνουν αποτέλεσμα ίσο με αυτό της καρτέλας.**



$5+3$

$2+7$

$10-2$

$9-1$

$10-4$

$4+4$



$5+1$

$2+8$

$10-3$

$9+1$

$10-0$

$3+7$



$5+4$

$2+7$

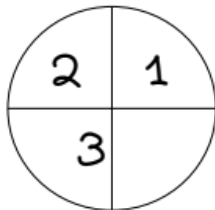
$10-1$

$10-5$

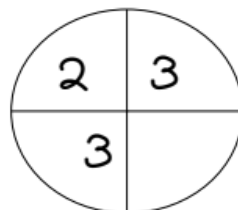
$10-8$

$4+3$

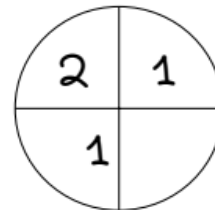
**Συμπλήρωσε τον αριθμό που λείπει.**



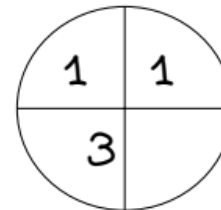
Όλα είναι 8.



Όλα είναι 10.




Όλα είναι 7.



Όλα είναι 9.

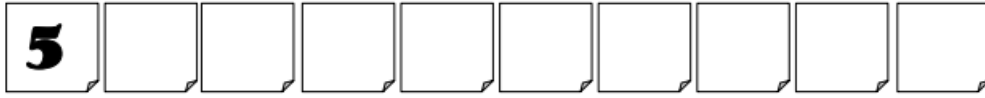
Μέσα στην κασετίνα του Θωμά χωράνε 10  
ζυλομπογιές. Η κασετίνα έχει μέσα 7 ζυλομπογιές.  
Πόσες ζυλομπογιές χωράνε ακόμα;



Λογαριάζω: \_\_\_\_\_

Απαντώ: \_\_\_\_\_

## Μετρώ 5-5 και 10-10



## Μετρώ 2-2 ως το 20.



Δες πόσα λεφτά έχω στο πορτοφόλι μου και γράψε πόσα ακόμα χρειάζομαι για να αγοράσω αυτά που θέλω.



Χρειάζομαι ακόμα  
\_\_\_\_\_ €, γιατί  
\_\_\_\_\_ + \_\_\_\_\_ =



Χρειάζομαι ακόμα  
\_\_\_\_\_ €, γιατί  
\_\_\_\_\_ + \_\_\_\_\_ =



Χρειάζομαι ακόμα  
\_\_\_\_\_ €, γιατί  
\_\_\_\_\_ + \_\_\_\_\_ =