

ΟΝΟΜΑ: _____

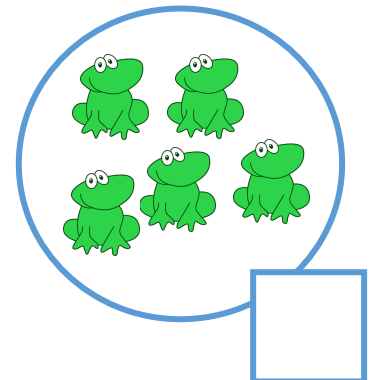
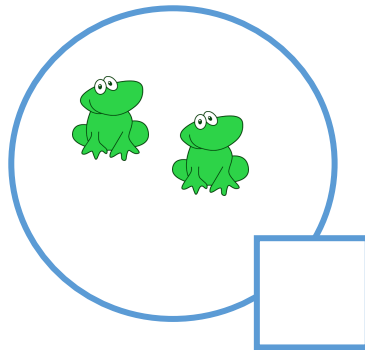



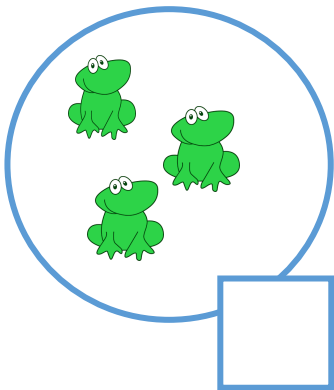
Μαθηματικά 1η Ενότητα

Επανάληψη αριθμών 1-5






1. Γράφω τους αριθμούς πολλές φορές.

0	0							
1	1							
2								
3								
4								
5								

2. Πόσα βατραχάκια έχει κάθε κύκλος. Γράφω τον αριθμό στα τετραγωνάκια.



3. ΜΕΤΡΩ ΤΑ ΑΝΤΙΚΕΙΜΕΝΑ ΚΑΙ ΚΥΚΛΩΝΩ ΤΟ ΣΩΣΤΟ ΑΡΙΘΜΟ.

	0	1	2	3	4	5
	0	1	2	3	4	5
	0	1	2	3	4	5
	0	1	2	3	4	5
	0	1	2	3	4	5
	0	1	2	3	4	5

4. Σε κάθε ανθοδοχείο ζωγραφίζω τόσα λουλούδια όσα λέει ο αριθμός.

