


Όνομα: _____


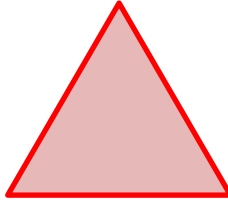
Γεωμετρικά σχήματα




Αυτό είναι ένα τετράγωνο. Φτιάξε κι εσύ ένα τετράγωνο δίπλα.





Αυτό είναι ένα τρίγωνο. Φτιάξε κι εσύ ένα τρίγωνο δίπλα.



Αυτό είναι ένα ορθογώνιο. Φτιάξε κι εσύ ένα ορθογώνιο δίπλα.



Αυτός είναι ένας κύκλος. Φτιάξε κι εσύ έναν κύκλο δίπλα.



Εντόπισε τα παρακάτω γεωμετρικά στερεά και βάψε :

τους κύβους γαλάζιους 

τους κυλίνδρους κόκκινους 

τις σφαίρες κίτρινες 

τις πυραμίδες καφέ 

και τα ορθογώνια στερεά πράσινα 

