

ΟΝΟΜΑ: \_\_\_\_\_

## Μαθηματικά 2η Ενότητα

### 13. Πρόσθεση και ανάλυση των αριθμών μέχρι το 5 (II)


1. Βρίσκω τους αριθμούς και γράφω πόσο κάνουν όλα μαζί.



και



Όλα μαζί είναι



και




Όλα μαζί είναι



και



Όλα μαζί είναι



και




Όλα μαζί είναι




2. Συμπληρώνω τον αριθμό που λείπει.




<input type="text" value="3"/>	και	<input type="text"/>	→	<input type="text" value="5"/>
<input type="text"/>	και	<input type="text" value="1"/>	→	<input type="text" value="3"/>
<input type="text"/>	και	<input type="text" value="2"/>	→	<input type="text" value="4"/>
<input type="text" value="4"/>	και	<input type="text"/>	→	<input type="text" value="5"/>
<input type="text" value="1"/>	και	<input type="text"/>	→	<input type="text" value="4"/>



3. Συμπληρώνω τους αριθμούς και βρίσκω πόσα είναι όλα τα ευρώ μαζί.

	και		και		κάνουν μαζί	<input type="text"/>
<input type="text"/>	και	<input type="text"/>	και	<input type="text"/>	→	

	και		και		κάνουν μαζί	<input type="text"/>
<input type="text"/>	και	<input type="text"/>	και	<input type="text"/>	→	

	και		και		κάνουν μαζί	<input type="text"/>
<input type="text"/>	και	<input type="text"/>	και	<input type="text"/>	→	