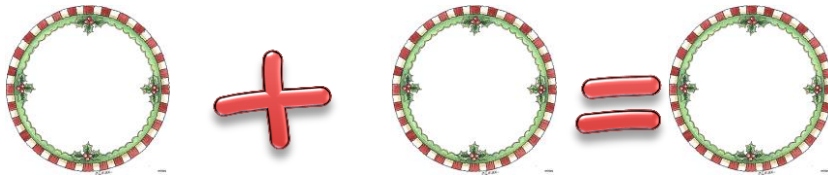


Όνομα: _____

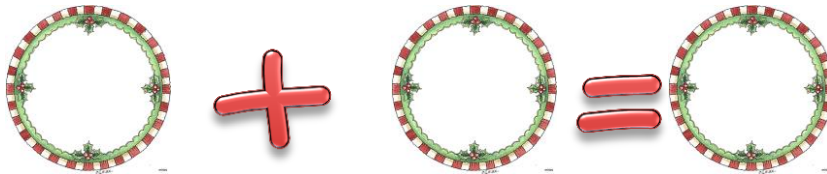
Αθροίσματα μέχρι το 10

κεφ.18


Ο Θανάσης έχει 3 γλειφιτζούρια. Η Ελένη έχει 4 γλειφιτζούρια. Πόσα γλειφιτζούρια έχουν τα δυο παιδιά μαζί;



Στην αυλή του κύριου Πέτρου έχει 5 έλατα μπροστά και 3 έλατα πίσω από το φράχτη. Πόσα είναι όλα τα έλατα μαζί;



Τα αγόρια της κυρίας Σοφίας έφτιαξαν 5 χιονάνθρωπους και κορίτσια έφτιαξαν άλλους 5. Πόσους χιονάνθρωπους έφτιαξαν όλα τα παιδιά μαζί;



Βρίσκω πόσα είναι όλα μαζί.



$3+4=$ _____

$5+1=$ _____

$8+1=$ _____

$6+2=$ _____

$2+4=$ _____

$9+1=$ _____

$3+3=$ _____

$2+2=$ _____

$4+4=$ _____

$5+5=$ _____

$8+2=$ _____

$7+2=$ _____

Συμπληρώνω το αστεράκι στο δέντρο και φτιάχνω τις δυο προσθέσεις του πιγκουίνου.

