

ΟΝΟΜΑ: _____

Μαθηματικά 3η Ενότητα

21. Προσθετική ανάλυση αριθμών από το 6 μέχρι το 10

1. Γράφω τα ζευγαράκια του 6, 7, και του 8.





0	+	<input type="text"/>
1	+	<input type="text"/>
2	+	<input type="text"/>
3	+	<input type="text"/>
4	+	<input type="text"/>
5	+	<input type="text"/>
6	+	<input type="text"/>



0	+	<input type="text"/>
1	+	<input type="text"/>
2	+	<input type="text"/>
3	+	<input type="text"/>
4	+	<input type="text"/>
5	+	<input type="text"/>
6	+	<input type="text"/>
7	+	<input type="text"/>

0	+	<input type="text"/>
1	+	<input type="text"/>
2	+	<input type="text"/>
3	+	<input type="text"/>
4	+	<input type="text"/>
5	+	<input type="text"/>
6	+	<input type="text"/>
7	+	<input type="text"/>
8	+	<input type="text"/>



2. Γράφω τα ζευγαράκια του 9 και του 10.



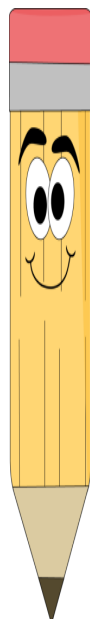
0	+	<input type="text"/>
1	+	<input type="text"/>
2	+	<input type="text"/>
3	+	<input type="text"/>
4	+	<input type="text"/>
5	+	<input type="text"/>
6	+	<input type="text"/>
7	+	<input type="text"/>
8	+	<input type="text"/>
9	+	<input type="text"/>



0	+	<input type="text"/>
1	+	<input type="text"/>
2	+	<input type="text"/>
3	+	<input type="text"/>
4	+	<input type="text"/>
5	+	<input type="text"/>
6	+	<input type="text"/>
7	+	<input type="text"/>
8	+	<input type="text"/>
9	+	<input type="text"/>
10	+	<input type="text"/>

3. Κάνω τις παρακάτω προσθέσεις.

9	+	1	=	<input type="text"/>
5	+	3	=	<input type="text"/>
4	+	2	=	<input type="text"/>
6	+	3	=	<input type="text"/>
7	+	0	=	<input type="text"/>



2	+	5	=	<input type="text"/>
3	+	7	=	<input type="text"/>
1	+	6	=	<input type="text"/>
4	+	4	=	<input type="text"/>
0	+	10	=	<input type="text"/>