


ΟΝΟΜΑ: \_\_\_\_\_


# Μαθηματικά 3η Ενότητα

## 19. Οι τακτικοί αριθμοί - Τα διπλά αθροίσματα (3)

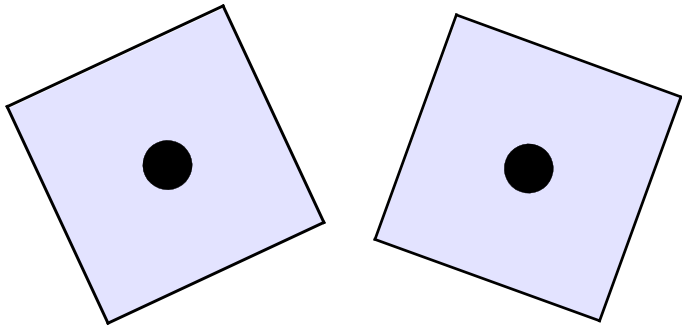
1. Κυκλώνω τα μισά και γράφω στο κουτάκι πόσα είναι.



2. Μοιράζω τα κεκάκια στα δύο παιδιά εξίσου.

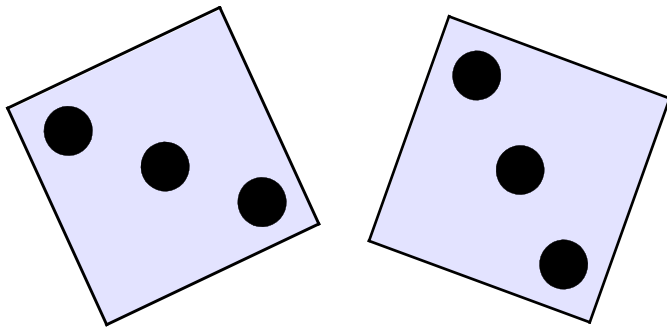
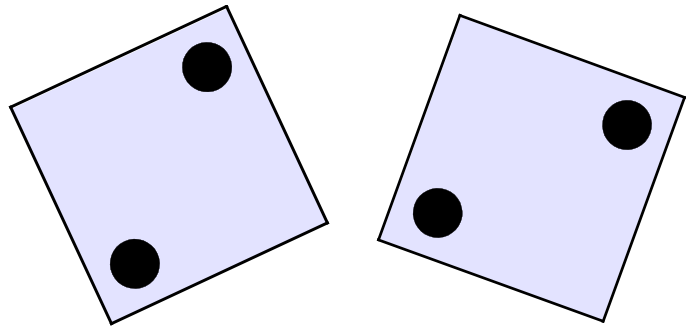


3. Συμπληρώνω τους αριθμούς και τους μαθαίνω απ' έξω,



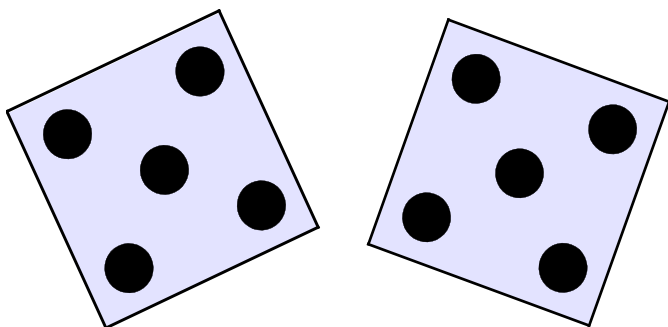
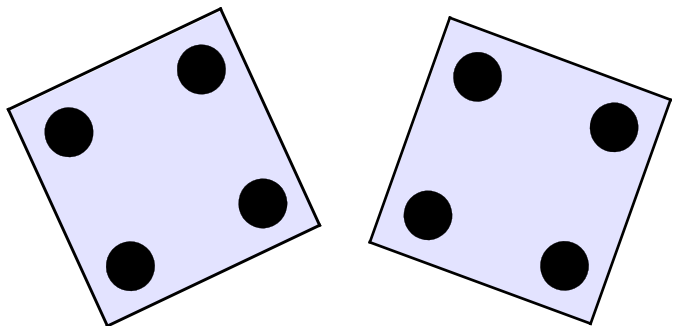
Το μισό του 2 είναι το \_\_\_\_

Το μισό του 4 είναι το \_\_\_\_



Το μισό του 6 είναι το \_\_\_\_

Το μισό του 8 είναι το \_\_\_\_



Το μισό του 10 είναι το \_\_\_\_