


Μάθημα 30

Σκέψου προσεχτικά, παρατήρησε τις μαγικές λέξεις και λύσε τα προβλήματα:

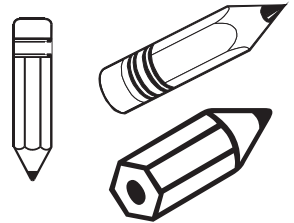
- 1) Ο Νίκος και ο Τάκης παίζουν βόλους.
Ο Νίκος έχει 6 βόλους και ο Τάκης έχει 4.
Πόσους βόλους έχουν **όλους μαζί**;



Λογαριάζω:

Απαντώ: _____


- 2) Η μαμά αγόρασε για τη Μαρίνα ένα κουτί με 10 μολύβια.
Σήμερα της έβαλε στην κασετίνα της τα 3.
Πόσα μολύβια **έμειναν** στο κουτί;



Λογαριάζω:

Απαντώ: _____

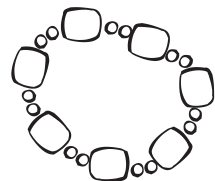
- 3) Ο Νικήτας είχε στον κουμπαρά του 10 ευρώ.
Το πρωί έβγαλε τα 7 για να αγοράσει μια μπάλα.
Πόσα ευρώ **έμειναν** στον κουμπαρά;



Λογαριάζω:

Απαντώ: _____

- 2) Το βραχιόλι της μαμάς έχει 5 χάντρες κόκκινες και 3 χάντρες
μαύρες. Πόσες χάντρες έχει **όλες μαζί**;



Λογαριάζω:

Απαντώ: _____

Όνομα: _____