


ΟΝΟΜΑ: \_\_\_\_\_





## Μαθηματικά 4η Ενότητα

### 28. Αφαίρεση με αφαιρετέο μικρό αριθμό

1. ΜΕΤΡΩ ανάποδα για να κατέβω τις σκάλες.



2. Παίρνω το μαγικό μου ραβδί και κάνω τις αφαιρέσεις.

$8 - 4 = \underline{\quad}$	$7 - 1 = \underline{\quad}$
	
$9 - 2 = \underline{\quad}$	$6 - 3 = \underline{\quad}$
	

3. Βρίσκω το αποτέλεσμα στις παρακάτω αφαιρέσεις.

$3 - 1 = \underline{\quad}$

$4 - 2 = \underline{\quad}$

$5 - 3 = \underline{\quad}$

$6 - 3 = \underline{\quad}$

$8 - 1 = \underline{\quad}$



$7 - 2 = \underline{\quad}$

$10 - 2 = \underline{\quad}$

$9 - 3 = \underline{\quad}$

$10 - 3 = \underline{\quad}$

$2 - 2 = \underline{\quad}$

taksiasterati.blogspot.com

4. Λύνω τα παρακάτω προβλήματα.

Η Μαρία έχει 5 πορτοκάλια. Έφαγα τα 2. Πόσα πορτοκάλια έχει τώρα η Μαρία;

 $\underline{\quad} - \underline{\quad} = \underline{\quad}$ 

Ο Σπύρος έχει 8 αυτοκινητάκια. Χθες έχασε τα 3. Πόσα έχει τώρα;

 $\underline{\quad} - \underline{\quad} = \underline{\quad}$ 

Στο κλαδί ενός δέντρου κάθονται 7 χελιδόνια. Έφυγαν τα 3. Πόσα έμειναν πάνω στο κλαδί;

 $\underline{\quad} - \underline{\quad} = \underline{\quad}$ 

Το λεωφορείο έχει 10 επιβάτες. Κατέβηκαν οι 4. Πόσοι είναι τώρα μέσα στο λεωφορείο;

 $\underline{\quad} - \underline{\quad} = \underline{\quad}$ 