

ΟΝΟΜΑ: _____

Μαθηματικά 4η Ενότητα

31. Συμπλήρωμα

1. Βρίσκω τον αριθμό που λείπει με τη βοήθεια των τετραγώνων.

$$7 + \underline{\quad} = 10$$

| | | | | |
|---|---|---|---|---|
| ● | ● | ● | ● | ● |
| ● | ● | | | |

$$5 + \underline{\quad} = 10$$

| | | | | |
|---|---|---|---|---|
| ● | ● | ● | ● | ● |
| | | | | |

$$9 + \underline{\quad} = 10$$

| | | | | |
|---|---|---|---|---|
| ● | ● | ● | ● | ● |
| ● | ● | ● | ● | |

$$2 + \underline{\quad} = 10$$

| | | | | |
|---|---|--|--|--|
| ● | ● | | | |
| | | | | |

$$6 + \underline{\quad} = 10$$

| | | | | |
|---|---|---|---|---|
| ● | ● | ● | ● | ● |
| ● | | | | |

$$3 + \underline{\quad} = 10$$

| | | | | |
|---|---|---|--|--|
| ● | ● | ● | | |
| | | | | |

2. Συμπληρώνω όσα πρέπει για να φτάσω στον πάνω αριθμό.

| | |
|----|--|
| 10 | |
| 8 | |

| | |
|----|--|
| 10 | |
| 0 | |

| | |
|----|--|
| 10 | |
| 4 | |

| | |
|----|--|
| 10 | |
| 1 | |



| | |
|----|--|
| 10 | |
| 10 | |

3. Βρίσκω τον αριθμό που λείπει.


$$5 + \square = 9$$

$$4 + \square = 8$$

$$2 + \square = 7$$

$$3 + \square = 6$$

$$1 + \square = 5$$



$$6 + \square = 8$$

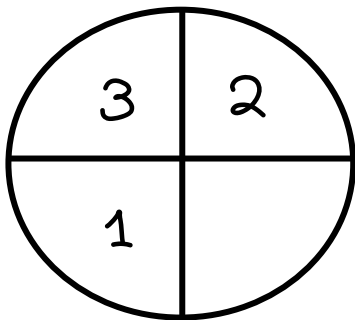
$$5 + \square = 7$$

$$6 + \square = 7$$

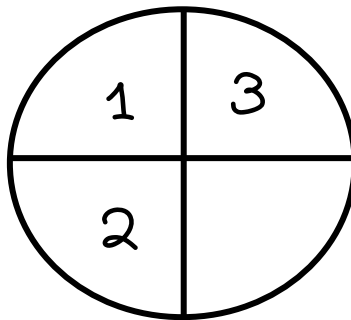
$$2 + \square = 6$$

$$5 + \square = 8$$

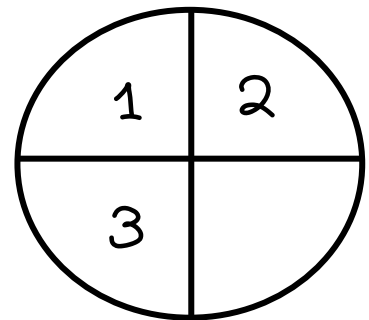
4. Συμπληρώνω τον αριθμό που λείπει.



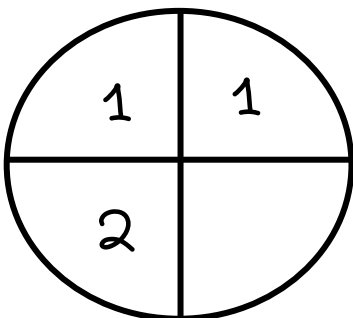
Όλα μαζί είναι 8.



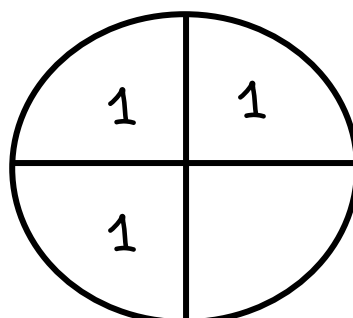
Όλα μαζί είναι 9.



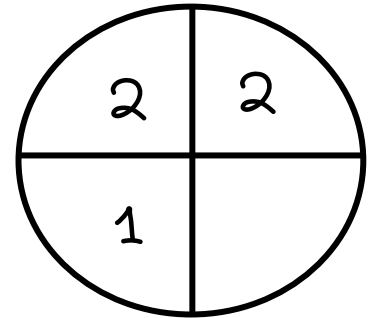
Όλα μαζί είναι 10.



Όλα μαζί είναι 7.



Όλα μαζί είναι 6.



Όλα μαζί είναι 10.