


ΟΝΟΜΑ: \_\_\_\_\_

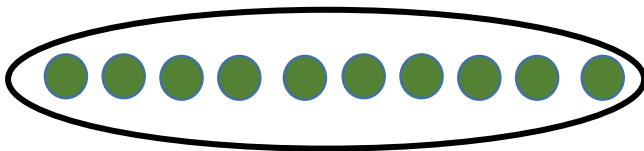
## Μαθηματικά 5η Ενότητα

### 33. Οργάνωση συλλογών - Αριθμοί μέχρι το 50 (1)


1. Ανεβαίνω ανά 10 έως το 50.




2. Φτιάχνω ομάδες των 10, βρίσκω πόσα περισσεύουν και βρίσκω τον αριθμό που ψάχνω.




Ομάδες των 10	Πόσα περισσεύουν;
1	3



Ομάδες των 10	Πόσα περισσεύουν;

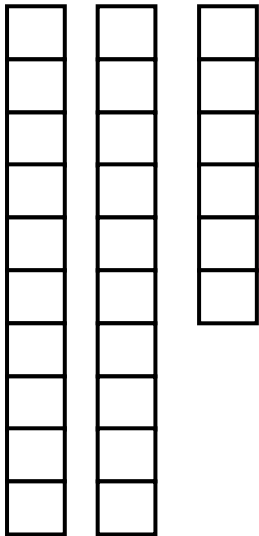


Ομάδες των 10	Πόσα περισσεύουν;



Ομάδες των 10	Πόσα περισσεύουν;

3. ΜΕΤΡΩ ΤΑ ΚΥΒΑΚΙΑ ΚΑΙ ΥΠΟΛΟΓΙΖΩ, ΟΠΩΣ ΤΟ ΠΑΡΑΔΕΙΓΜΑ.

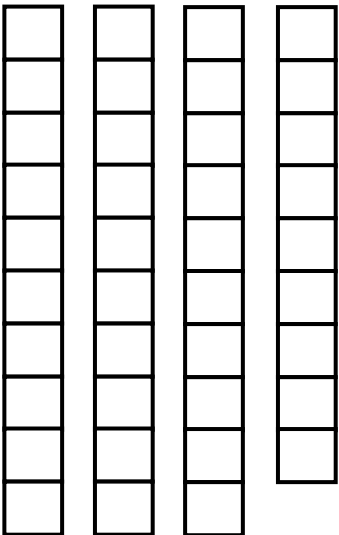


Υπολογίζω:

$$\underline{10} + \underline{\quad} + \underline{\quad} = \underline{\quad}$$

Βρίσκω τον αριθμό:

--	--

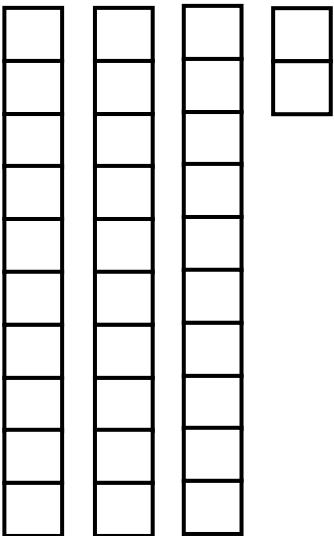


Υπολογίζω:

$$\underline{\quad} + \underline{\quad} + \underline{\quad} = \underline{\quad}$$

Βρίσκω τον αριθμό:

--	--



Υπολογίζω:

$$\underline{\quad} + \underline{\quad} + \underline{\quad} = \underline{\quad}$$

Βρίσκω τον αριθμό:

--	--