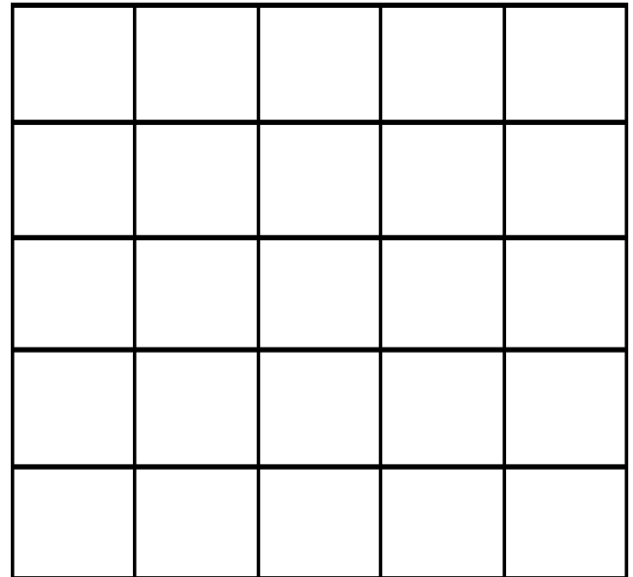
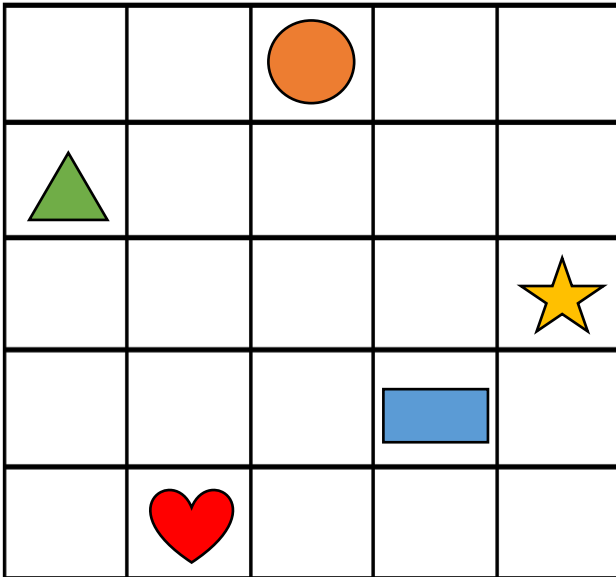


ΟΝΟΜΑ: _____

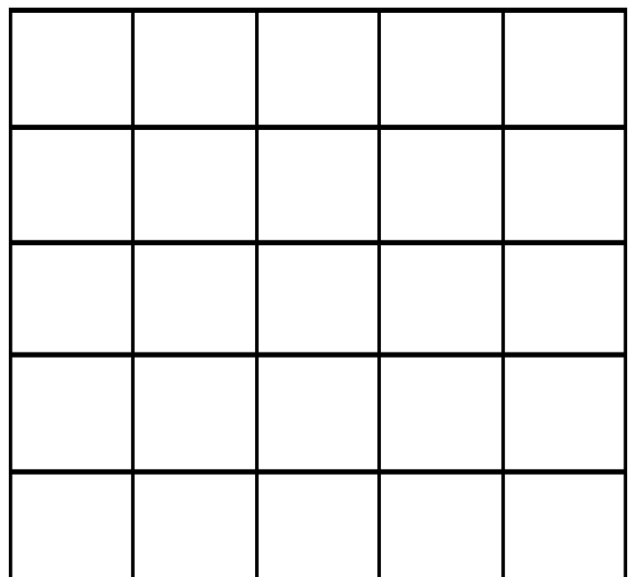
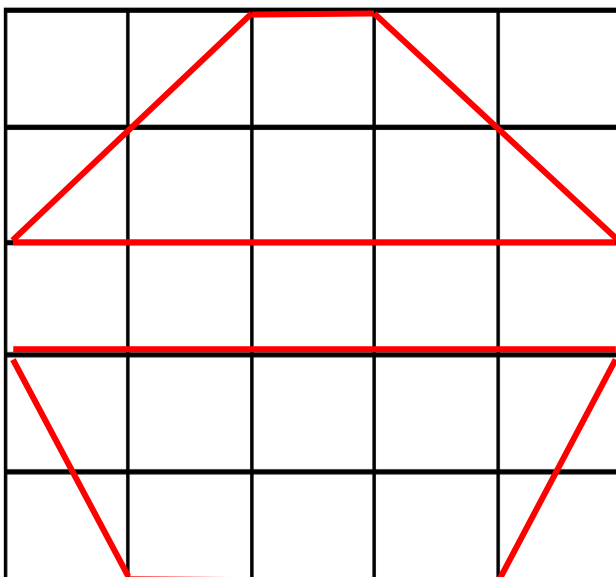
Μαθηματικά 5η Ενότητα

36. Κίνηση σε τετραγωνισμένο χαρτί


1. Σχεδιάζω στο δεξιό τετράγωνο ό,τι βλέπω στο αριστερό.



2. Σχεδιάζω στο δεξί τετράγωνο το παραβάκι, όπως ακριβώς το βλέπω στο αριστερό τετράγωνο.

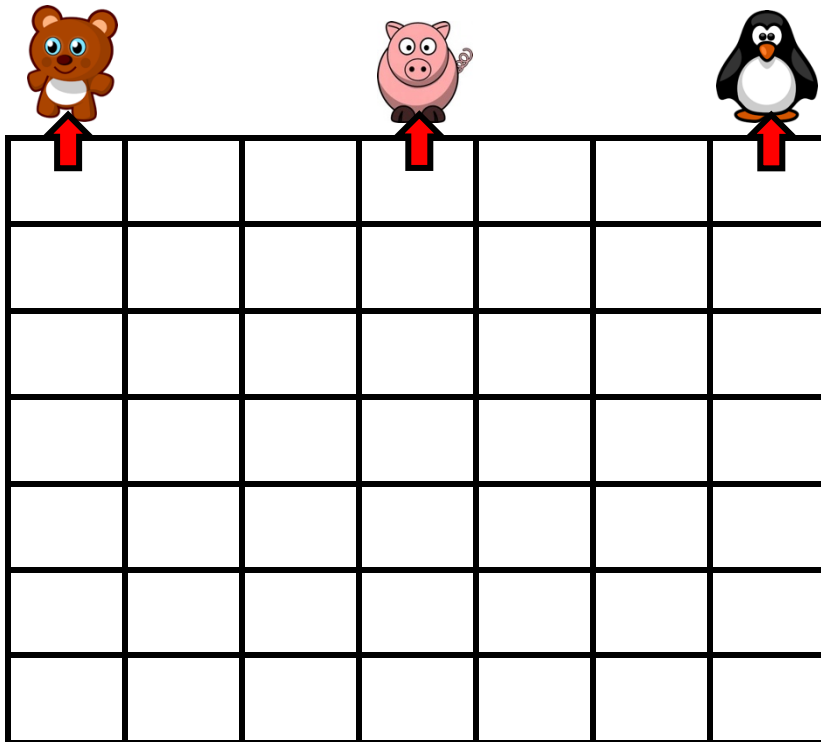


3. Χρωματίζω μόνο τις θέσεις του θεάτρου που μου λένε οι οδηγίες.



- 3η σειρά - 2η θέση
- 5η σειρά - 1η θέση
- 1η σειρά - 6η θέση
- 4η σειρά - 4η θέση
- 2η σειρά - 3η θέση

4. Σε ποιο ζώακι θα φτάσει η αλεπού αν ακολουθήσει τις παρακάτω οδηγίες.



- Προχωρώ ΠΑΝΩ 2 τετράγωνα.
- Στρίβω ΔΕΞΙΑ 3 τετράγωνα.
- Ανεβαίνω ΠΑΝΩ 2 τετράγωνα.
- Στρίβω ΑΡΙΣΤΕΡΑ 3 τετράγωνα.
- Ανεβαίνω ΠΑΝΩ 2 τετράγωνα.
- Προχωρώ ΔΕΞΙΑ 6 τετράγωνα.
- Ανεβαίνω ΠΑΝΩ 1 τετράγωνο.

Σε ποιο ζώακι έφτασες κυρία Αλεπού;

Ξεκινάω από εδώ.



Έφτασα
