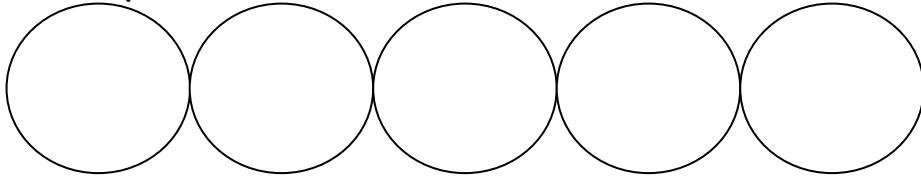


Οργάνωση συλλογών

κεφ33

Μετρώ 10-10 ως το 50.



Πόσο κάνουν;

✂ $10+10=$ ___ $10+10+10=$ ___ $10+10+10+10=$ ___

$10+10+10+10+10=$ ___

🏆 $10+5=$ ___ $10+8=$ ___ $10+3=$ ___ $10+9=$ ___

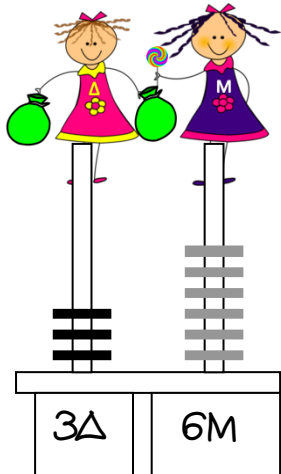
😊 $10+10+4=$ ___ $10+10+6=$ ___ $10+10+7=$ ___

🕊 $10+10+10+3=$ ___ $10+10+10+5=$ ___

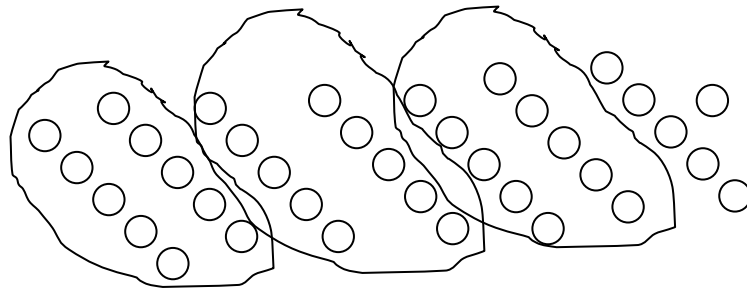
$10+10+10+2=$ ___ $10+10+10+6=$ ___

🕷 $10+10+10+10+8=$ ___ $10+10+10+10+1=$ ___

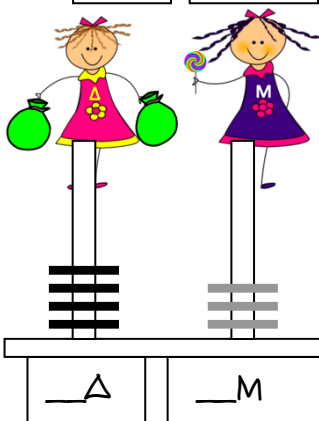
Βρίσκω πόσα κρατάει η Μονάδα και πόσα η Δεκάδα.



$= 10 + 10 + 10 + 6 = 36$



ΖΟΓΡΑΦΙΖΟ (ό,τι θέλω)

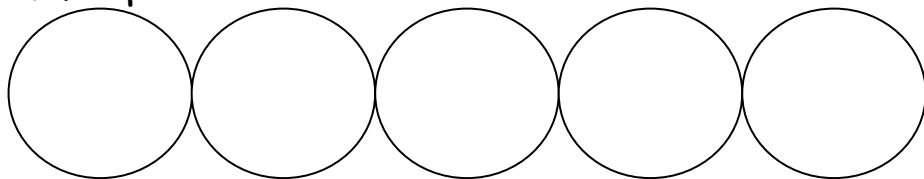


$=$ _____ $=$ _____

Οργάνωση συλλογών

κεφ33

Μετρώ 10-10 ως το 50.



Πόσο κάνουν;

✂ $10+10=$ ___

$10+10+10=$ ___

$10+10+10+10=$ ___

$10+10+10+10+10=$ ___

🏆 $10+5=$ ___

$10+8=$ ___

$10+3=$ ___

$10+9=$ ___

😊 $10+10+4=$ ___

$10+10+6=$ ___

$10+10+7=$ ___

🕊 $10+10+10+3=$ ___

$10+10+10+5=$ ___

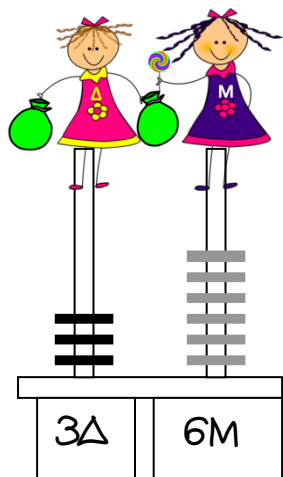
$10+10+10+2=$ ___

$10+10+10+6=$ ___

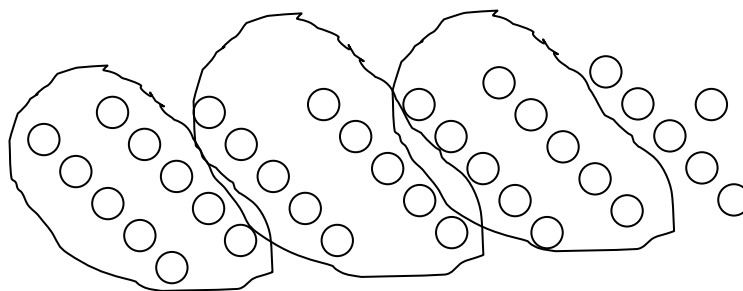
🕷 $10+10+10+10+8=$ ___

$10+10+10+10+1=$ ___

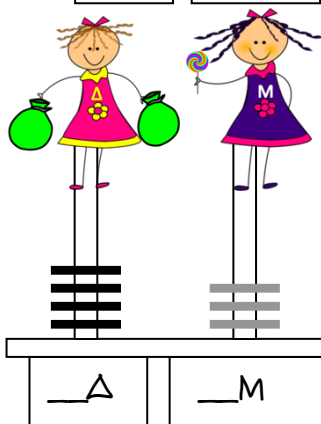
Βρίσκω πόσα κρατάει η Μονάδα και πόσα η Δεκάδα.



$= 10 + 10 + 10 + 6 = 36$



ΖΟΓΡΑΦΙΖΟ (ό,τι θέλω)



$=$ _____ $=$ _____