




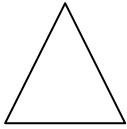
Γεωμετρικά σχήματα και γεωμετρικά στερεά

Όνομα:

Ημερομηνία:

1) Ένωσε το κάθε σχήμα και γεωμετρικό στερεό με την ονομασία του.

ΓΕΩΜΕΤΡΙΚΑ ΣΧΗΜΑΤΑ



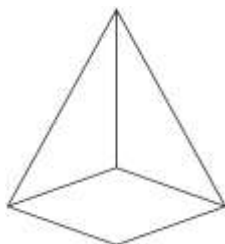
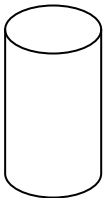
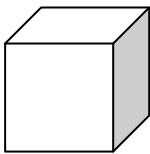

Τετράγωνο

Τρίγωνο

Ορθογώνιο

Κύκλος

ΓΕΩΜΕΤΡΙΚΑ ΣΤΕΡΕΑ



Κύβος

Πυραμίδα



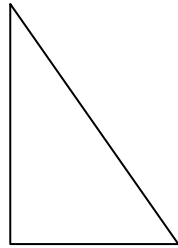

Σφαίρα

Ορθογώνιο παραλληλεπίπεδο

Κύλινδρος

2) Γράψε κάτω από κάθε σχήμα και γεωμετρικό στερεό την ονομασία του.

ΓΕΩΜΕΤΡΙΚΑ ΣΧΗΜΑΤΑ



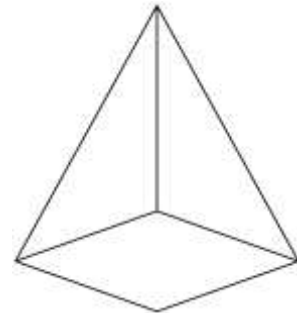

.....

.....

.....

.....

ΓΕΩΜΕΤΡΙΚΑ ΣΤΕΡΕΑ


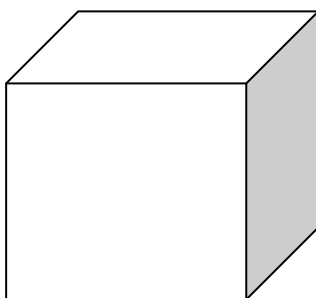


.....

.....

.....

.....



.....

.....

3) Βρες ποια είναι τα σχήματα και ποια τα στερεά.



