

ΟΝΟΜΑ: _____

Μαθηματικά 5η Ενότητα

38. Επαναληπτικό μάθημα

1. Βρίσκω τον αριθμό πριν και μετά.

___ **17** ___

___ **35** ___


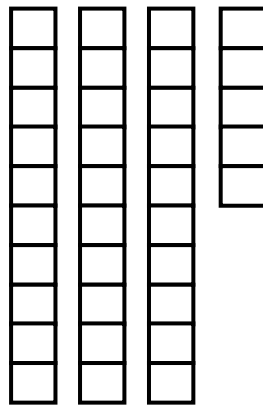
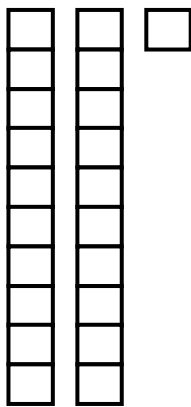
___ **50** ___

___ **24** ___

___ **10** ___

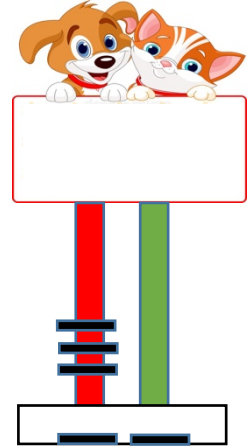
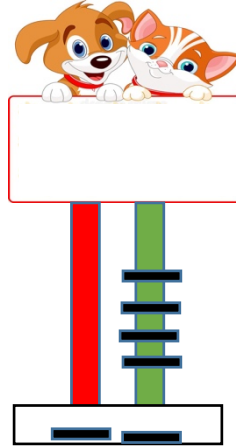

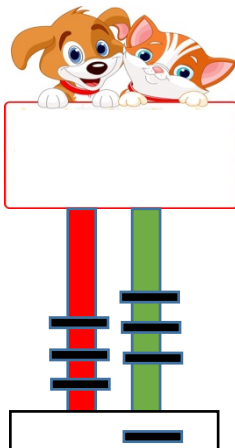
___ **44** ___

2. ΜΕΤΡΩ τα κυβάκια και βρίσκω τον αριθμό.



___ + ___ + ___ = _____

3. Βρίσκω τους αριθμούς που είναι σχηματισμένοι στους άβακες.



4. Ποιος είναι ο αριθμός που έχει...

3 Δ 1 Μ	31	τριάντα ένα
1 Δ 8 Μ		
2 Δ 5 Μ		
4 Δ 4 Μ		
5 Δ 0 Μ		

5. Υπολογίζω τα παρακάτω αθροίσματα.

$3 + 3 + 1 = \underline{\quad}$

$1 + 2 + 3 = \underline{\quad}$

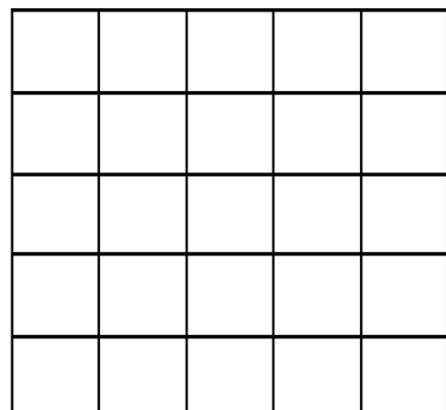
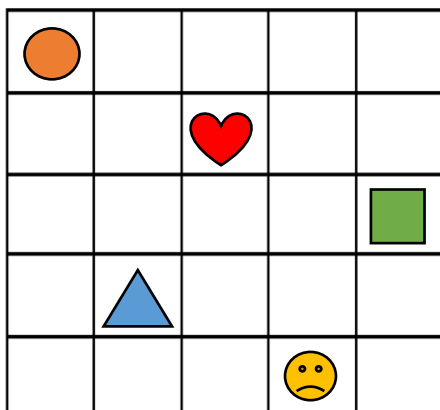
$6 + 2 + \underline{\quad} = 10$

$5 + 0 + \underline{\quad} = 10$

$4 + 1 + 1 = \underline{\quad}$

$$\begin{array}{r}
 3 \\
 1 \\
 + 1 \\
 \hline
 \square
 \end{array}
 +
 \begin{array}{r}
 2 \\
 1 \\
 + 5 \\
 \hline
 \square
 \end{array}
 +
 \begin{array}{r}
 6 \\
 \square \\
 + 2 \\
 \hline
 10
 \end{array}
 +
 \begin{array}{r}
 4 \\
 3 \\
 \square \\
 \hline
 10
 \end{array}
 +
 \begin{array}{r}
 1 \\
 4 \\
 + 3 \\
 \hline
 \square
 \end{array}$$

6. Σχεδιάζω στο δεξί τετράγωνο ό,τι βλέπω στο αριστερό.



7. Λύνω το παρακάτω πρόβλημα:

Ο Πάνος είχε 18 τουβλάκια και έχασε τα 8. Πόσα του έμειναν;

ΛΥΣΗ: