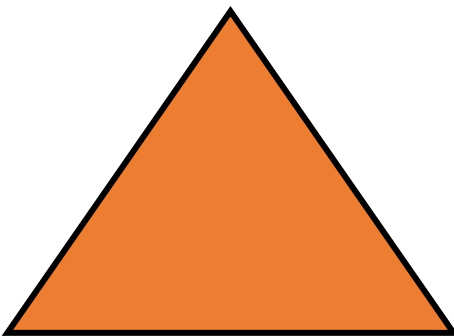




ΟΝΟΜΑ: _____

Μαθηματικά 6η Ενότητα

40. Γεωμετρικά Σχήματα

1. Γράφω τα ονόματα των γεωμετρικών σχημάτων.



2. Ενώνω τα αντικείμενα με τα ονόματα των γεωμετρικών στερεών.




σφαίρα



κύβος



στερεό
ορθογώνιο



κύλινδρος



πυραμίδα