



ΟΝΟΜΑ: _____

Μαθηματικά 6η Ενότητα

41. Ο Χρόνος

1. Βάζω τις εικόνες στη σωστή χρονική σειρά (1,2,3,4).




2. Γράφω τις ημέρες της εβδομάδας στην σωστή σειρά.



Δ _____,

3. Ενώνω τις εικόνες με τα ονόματα των εποχών και έπειτα απαντώ στις ερωτήσεις.



άνοιξη

χειμώνας

καλοκαίρι

φθινόπωρο

Ποια εποχή κάνει περισσότερο κρύο; _____

Ποια εποχή πηγαίνουμε στη θάλασσα; _____

Ποια εποχή ανοίγουν τα σχολεία; _____

Ποια εποχή ανθίζουν τα λουλούδια; _____

Ποια είναι η αγαπημένη σου εποχή; _____

4. Συμπληρώνω τα παρακάτω ημερολόγια.

