


ΟΝΟΜΑ: _____

Μαθηματικά 8η Ενότητα

54. ΜΕΤΡΗΣΗ ΜΕΓΕΘΩΝ

1. ΜΕΤΡΩ ΣΕ ΤΕΤΡΑΓΩΝΑ ΤΟ ΎψΟΣ ΤΟΥ ΚΑΘΕ ΖΩΟΥ.




Το πιο ψηλό ζώακι είναι : _____

Το πιο κοντό ζώακι είναι : _____



2. Ζωγραφίζω ένα **μεγαλύτερο** σε μήκος φίδι **κάτω** απ' αυτό που βλέπω και ένα **μικρότερο** σε μήκος από **πάνω**.



3. Μια κανάτα γεμίζει 4 ποτήρια χυμό πορτοκάλι.



Χρωματίζω τα ποτήρια που γεμίσουν κάθε φορά οι κανάτες:



μισή
κανάτα

