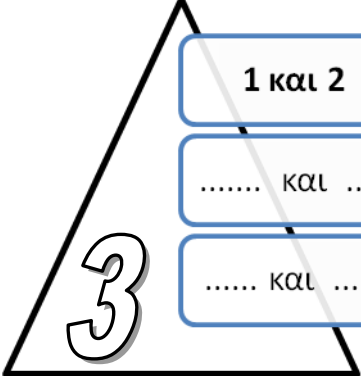
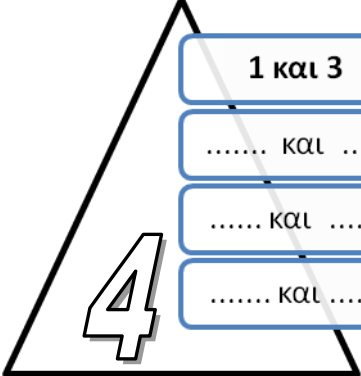
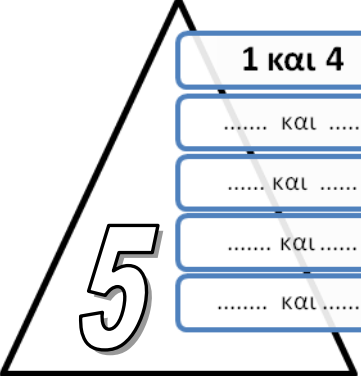


~ 1 ~ Πρόσθεση και ανάλυση των αριθμών μέχρι το 5

Όνομα
Ημερομηνία

1. Αναλύω τους αριθμούς στα ζευγαράκια τους.









		
---	---	--

2. Αντιστοιχίζω τα αθροίσματα.


1 και 3	2	2 και 1
3 και 2	3	2 και 2
2 και 3	4	4 και 1
0 και 3	5	4 και 1



3. Βρίσκω πόσα είναι όλα και κυκλώνω το σωστό αριθμό.

	και		2	3	4
	και		3	5	4
	και		5	2	3
	και		4	2	5

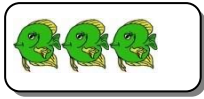
Και συνεχίζω



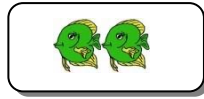
και



και



και



4. Συμπληρώνω τον αριθμό που λείπει ώστε να είναι σωστό το αποτέλεσμα.

$$\boxed{2} \text{ και } \boxed{} = \boxed{3}$$

$$\boxed{3} \text{ και } \boxed{} = \boxed{4}$$





$$\boxed{2} \text{ και } \boxed{} = \boxed{4}$$

$$\boxed{4} \text{ και } \boxed{} = \boxed{5}$$

$$\boxed{} \text{ και } \boxed{1} = \boxed{3}$$

$$\boxed{} \text{ και } \boxed{3} = \boxed{5}$$

5. Διαγράψω αυτά που δε χρειάζομαι ή συμπληρώνω αυτά που πρέπει ώστε η καρτέλα να έχει τόσα όσα μου λέει ο αριθμός.



6. Συγκρίνω τους αριθμούς και τα αποτελέσματα χρησιμοποιώντας τα σημάδια $<$ $=$ $>$

$$3 \text{ και } 2 \dots\dots\dots 5$$

$$2 \text{ και } 1 \dots\dots\dots 5$$

$$4 \text{ και } 1 \dots\dots\dots 3$$

$$5 \dots\dots\dots 3 \text{ και } 1$$

$$4 \dots\dots\dots 2 \text{ και } 2$$

$$1 \dots\dots\dots 2 \text{ και } 2$$

$$0 \dots\dots\dots 4 \text{ και } 1$$

$$2 \text{ και } 1 \dots\dots\dots 3 \text{ και } 0$$

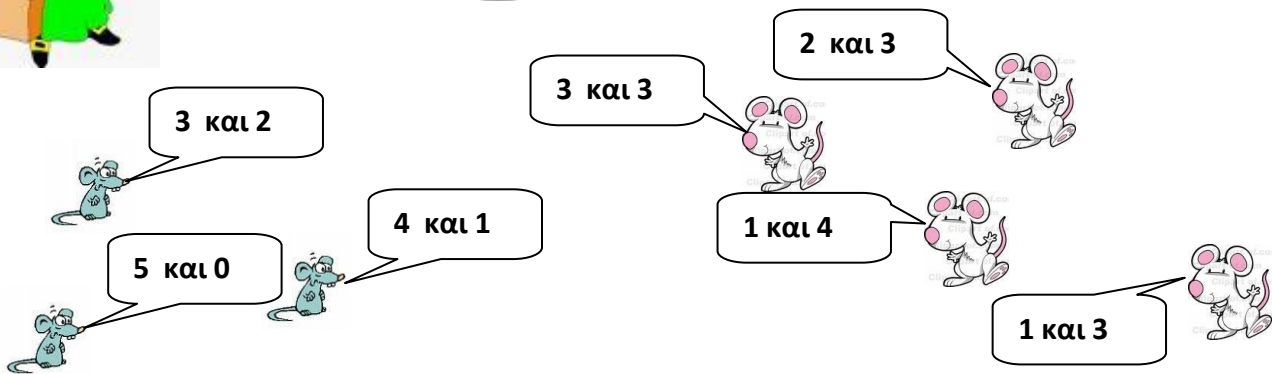
$$1 \text{ και } 4 \dots\dots\dots 3$$

Η μάγισσα Προσθετώλ χοροπηδάει χαρούμενη και τραγουδάει. Είναι φυσικό. Μόλις διάβασε σε αφίσες ότι θ' ανοίξει το λούνα παρκ στην άλλη πλευρά του λόφου. Δεν μπορεί όμως να πάρει μαζί της όλα τα ποντίκια και τους φίλους της. Η Προσθετώλ τραβάει ένα λαχνό στην τύχη.



Όλα τα ποντίκια που έχουν το 5 θα 'ρθουν μαζί μου στο Πάρκο του Δράκου!!!!(λούνα παρκ)

Βάλε σε κύκλο τα ποντίκια που θα ακολουθήσουν τη μάγισσα Προσθετώλ.



Ο Τραγανούλης τράβηξε το λαχνό **2 και 2** .

Κύκλωσε τους λαχνούς που το άθροισμά τους είναι ίσο με του Τραγανούλη.

1 και 3

2 και 2

3 και 1

4 και 0

0 και 4



Χα, χα!!! Αν η σκούπα μου χαλάσει, τα ποντίκι θα με κουβαλήσουν στην πλάτη!!

Συμπλήρωσε τον πίνακα.

δεξί χέρι	αριστερό χέρι	σύνολο
5 ποντίκια	0 ποντίκια	5 ποντίκια
4 ποντίκια	1 ποντίκι	5 ποντίκια
3 ποντίκια	5 ποντίκια
.....	5 ποντίκια
.....	4 ποντίκια	5 ποντίκια
.....	5 ποντίκια