


ΟΝΟΜΑ: _____


Μαθηματικά 1η Ενότητα

8. Επαναληπτικό Μάθημα

1. Σχεδιάζω δύο **μήλα** πάνω στο τραπέζι, ένα **χαλάκι** από κάτω, ένα **παιδάκι** δεξιά και ένα **σκυλάκι** αριστερά από το τραπέζι.




2. Χρωματίζω κόκκινους τους **κύκλους**, κίτρινα τα **τρίγωνα**, πράσινα τα **τετράγωνα** και μυρμή τα **ορθογώνια**.






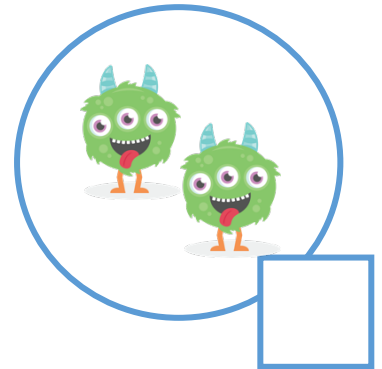


3. Είναι τα παιδάκι όσο τα βιβλία; Αντιστοιχίζω με γραμμές και βάζω X στη σωστή απάντηση.

Ναι

Όχι



4. Πόσα τερατάκια έχει κάθε κύκλος. Γράφω τον αριθμό στα τετραγωνάκια.




5. Γράφω τον προηγούμενο και το επόμενο αριθμό στα κουτάκια.

	3	
--	---	--

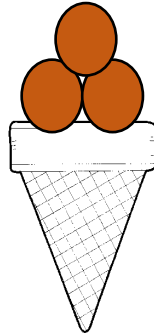
	1	
--	---	--

	4	
--	---	--


6. Συμπληρώνω όσες μπάλες χρειάζομαι κάθε φορά.



2 και _____
μας κάνουν 4



3 και _____
μας κάνουν 5



1 και _____
μας κάνουν 3

7. Μπορείς να βρεις πόσα είναι τα ευρώ κάθε φορά;



και



Όλα είναι _____



και



Όλα είναι _____



και



Όλα είναι _____



και



Όλα είναι _____