

Ανισότητες


Γράφω τον αριθμό κάθε παρεούλας και βάζω το σωστό σύμβολο (<, >, =).



○ □ ○




○ □ ○




○ □ ○



○ □ ○



○ □ ○



○ □ ○

Αντιστοιχίζω κάθε αριθμό με το όνομά του. Μετά γράφω το όνομα δίπλα σε κάθε αριθμό.

Ένα*

* 2

Δύο *

* 3

Τρία*

* 1

Τέσσερα*

* 5

Πέντε*

* 4

Ανισότητες

Γράφω τον αριθμό κάθε παρεούλας και βάζω το σωστό σύμβολο (<, >, =).



○ □ ○



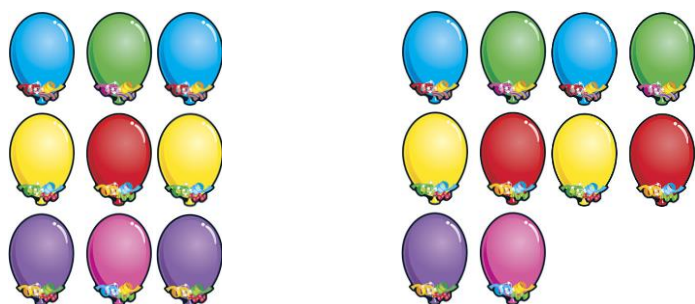
○ □ ○




○ □ ○



○ □ ○



○ □ ○



○ □ ○

Αντιστοιχίζω κάθε αριθμό με το όνομά του. Μετά γράφω το όνομα δίπλα σε κάθε αριθμό.

Ένα*

* 2

Δύο *

* 3

Τρία*

* 1

Τέσσερα*

* 5

Πέντε*

* 4