





Οι τακτικοί αριθμοί Κεφάλαιο 19


Χρωματίζω το τρίτο γλειφιτζούρι.



Χρωματίζω το έβδομο μπισκότο .



Χρωματίζω τη δέκατη καραμέλα .



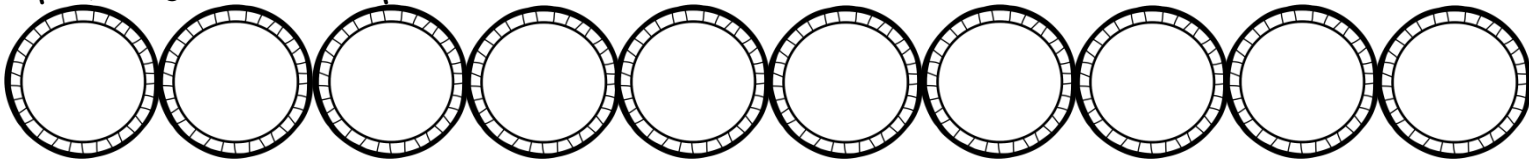
Χρωματίζω το τέταρτο γλυκό.



Χρωματίζω το έκτο ζωτικό.




Χρωματίζω το δεύτερο πιάτο.




Χρωματίζω τον όγδοο σκούφο.




Χρωματίζω το πέμπτο αστέρι.



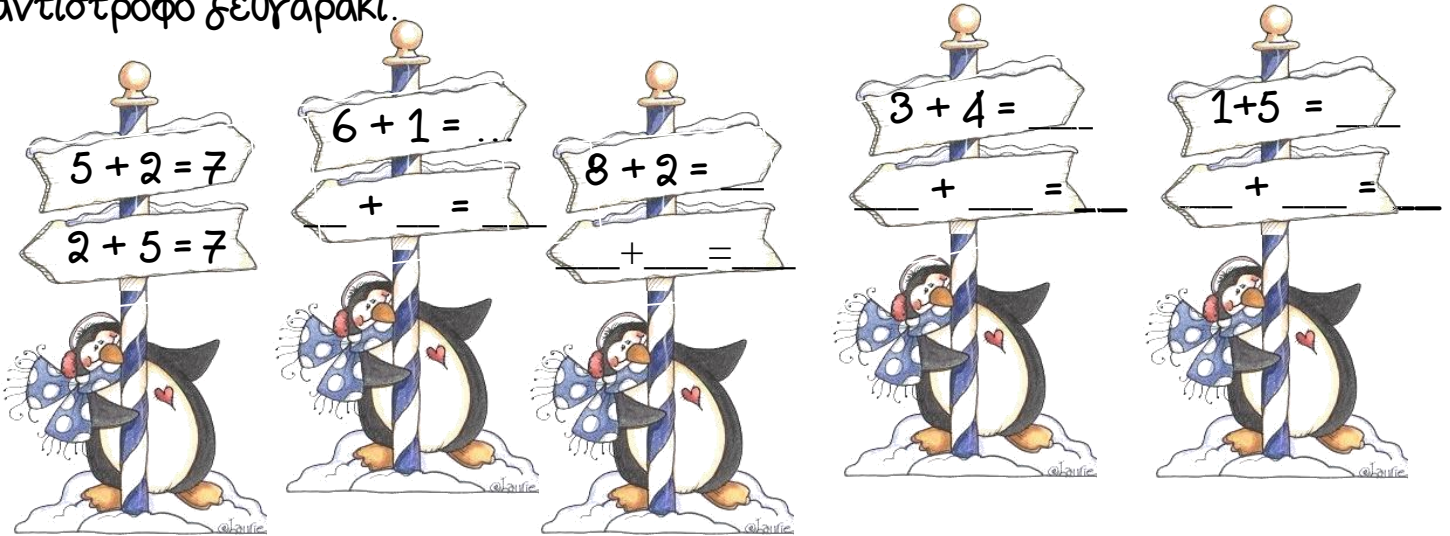
Χρωματίζω το πρώτο ποτήρι .



Χρωματίζω το ένατο παπούτσι.



Βρίσκω πόσο κάνουν μετρώντας με τα δάχτυλα. Έπειτα βρίσκω και το αντίστροφο ζευγαράκι.



Κάνε το ίδιο κι εδώ:

$5 + 4 = \dots$

$3 + 5 = \dots$

$6 + 4 = \dots$

$\dots + \dots =$

$\dots + \dots =$

$\dots + \dots =$

$6 + 2 = \dots$

$2 + 7 = \dots$

$\dots + \dots =$

$\dots + \dots =$



Τα διπλά αθροίσματα

Πόσα είναι όλα κάθε φορά;



$$1 + 1 = \underline{\quad}$$

$$\underline{\quad} + \underline{\quad} = \underline{\quad}$$

$$\underline{\quad} + \underline{\quad} = \underline{\quad}$$



$$\underline{\quad} + \underline{\quad} = \underline{\quad}$$

$$\underline{\quad} + \underline{\quad} = \underline{\quad}$$

Μετράω 2-2 ως το 10.



Ένωσε το άθροισμα με το σωστό αριθμό.



Τα διπλά αθροίσματα

Πόσα είναι όλα κάθε φορά;



$$1 + 1 = \underline{\quad}$$

$$\underline{\quad} + \underline{\quad} = \underline{\quad}$$

$$\underline{\quad} + \underline{\quad} = \underline{\quad}$$



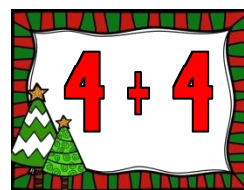

$$\underline{\quad} + \underline{\quad} = \underline{\quad}$$

$$\underline{\quad} + \underline{\quad} = \underline{\quad}$$

Μετράω 2-2 ως το 10.




Ένωσε το άθροισμα με το σωστό αριθμό.





Το μισό


Τα μοιράζω εξίσου. Πόσα θα πάρει το κάθε ζωτικό; Ζωγραφίζω.





Τα μοιράζω εξίσου. Πόσα θα πάρει το κάθε ζωτικό; Ζωγραφίζω.







Τα μοιράζω εξίσου. Πόσα θα βάλω στο κάθε ταχυδρομικό κουτί; Ζωγραφίζω.



Τα μοιράζω εξίσου. Πόσα θα βάλω σε κάθε πιάτο; Ζωγραφίζω.




Βάζω σε κύκλο τα μισά. Γράφω πόσα είναι τα μισά.

 <input type="text"/>	 <input type="text"/>
 <input type="text"/>	 <input type="text"/>



Το μισό


Τα μοιράζω εξίσου. Πόσα θα πάρει το κάθε ζωτικό; Ζωγραφίζω.





Τα μοιράζω εξίσου. Πόσα θα πάρει το κάθε ζωτικό; Ζωγραφίζω.







Τα μοιράζω εξίσου. Πόσα θα βάλω στο κάθε ταχυδρομικό κουτί; Ζωγραφίζω.



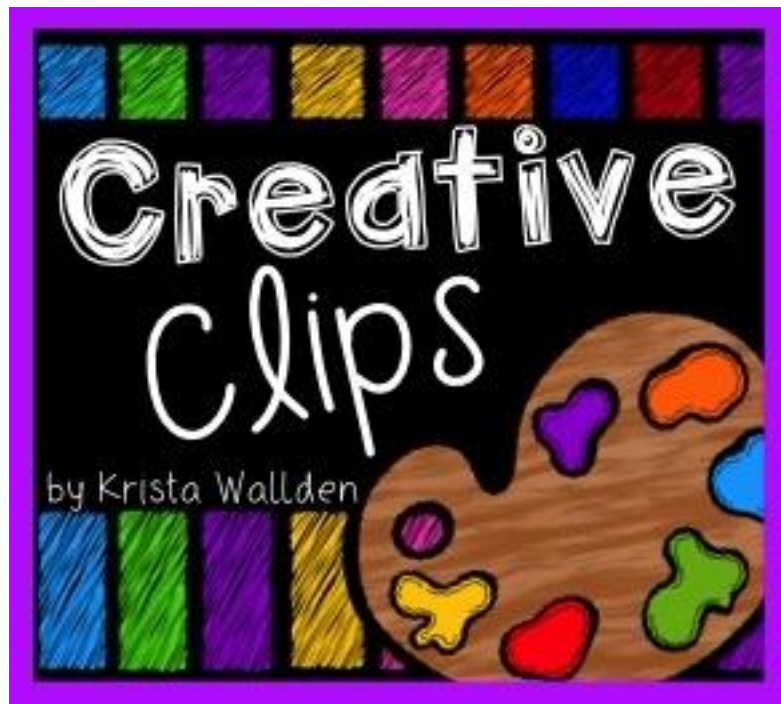
Τα μοιράζω εξίσου. Πόσα θα βάλω σε κάθε πιάτο; Ζωγραφίζω.



Βάζω σε κύκλο τα μισά. Γράφω πόσα είναι τα μισά.

 <input type="text"/>	 <input type="text"/>
 <input type="text"/>	 <input type="text"/>

Clipart and frames



Fonts

