



ΟΝΟΜΑ: _____

Μαθηματικά 2η Ενότητα

15. Προβλήματα

Λύνω τα παρακάτω προβλήματα.

Ο Νίκος έχει 
Ο Γιάννης του χάρισε ακόμα
. Πόσα αυτοκινήτáκια
έχει τώρα ο Νίκος;

Λύση: $\square + \square = \square$

Απάντηση: Ο Νίκος έχει _____
αυτοκινήτáκια.

Πόσα μπισκότα υπάρχουν και
στα δύο βάζα;




$$\square + \square = \square$$

Στα βάζα υπάρχουν _____
μπισκότα.




Στο κλάδι ενός δένδρου κάθονται δύο
πουλάκια. Έρχεται άλλο ένα. Έπειτα έρχεται
ακόμα ένα. Πόσα πουλάκια έχουν μαζευτεί
τώρα στο κλάδι;

$$\square + \square + \square = \square$$



Σε μία φάρμα υπάρχουν 2 αγελαδίτσες
και 3 γουρουνάκια. Μπορείς να βρεις
πόσα είναι όλα τα ζώα στη φάρμα;



$$\square + \square = \square$$

